

МИНИСТЕРСТВО ПРОСВЕЩЕНИЯ РОССИЙСКОЙ ФЕДЕРАЦИИ

Министерство образования Оренбургской области

Управление образования администрации города Оренбурга

МОАУ "СОШ № 53"

РАССМОТРЕНО
Руководитель ШМО

Брчкарева Л.Б.
Протокол № 1 от «29»
августа 2023г.

СОГЛАСОВАНО
ЗД по УВР

Щавелева Е.А.
Протокол № 1 от «30»
августа 2023г.

УТВЕРЖДЕНО
Директор МОАУ "СОШ
№53"

Путинцева Л.И.
Приказ № 01-10/215 от
«30» августа 2023г

**РАБОЧАЯ ПРОГРАММА
учебного предмета «Физика»**

(базовый уровень)

для обучающихся 10-11 классов

г. Оренбург, 2023

ПОЯСНИТЕЛЬНАЯ ЗАПИСКА

Программа по физике базового уровня на уровне среднего общего образования разработана на основе положений и требований к результатам освоения основной образовательной программы, представленных в ФГОС СОО, а также с учётом федеральной рабочей программы воспитания и концепции преподавания учебного предмета «Физика» в образовательных организациях Российской Федерации, реализующих основные образовательные программы.

Содержание программы по физике направлено на формирование естественно-научной картины мира обучающихся 10-11 классов при обучении их физике на базовом уровне на основе системно-деятельностного подхода. Программа по физике соответствует требованиям ФГОС СОО к планируемым личностным, предметным и метапредметным результатам обучения, а также учитывает необходимость реализации межпредметных связей физики с естественно-научными учебными предметами. В ней определяются основные цели изучения физики на уровне среднего общего образования, планируемые результаты освоения курса физики: личностные, метапредметные, предметные (на базовом уровне).

Программа по физике включает:

- планируемые результаты освоения курса физики на базовом уровне, в том числе предметные результаты по годам обучения;
- содержание учебного предмета «Физика» по годам обучения.

Физика как наука о наиболее общих законах природы, выступая в качестве учебного предмета в школе, вносит существенный вклад в систему знаний об окружающем мире. Школьный курс физики - системообразующий для естественно-научных учебных предметов, поскольку физические законы лежат в основе процессов и явлений, изучаемых химией, биологией, физической географией и астрономией. Использование и активное применение физических знаний определяет характер и развитие разнообразных технологий в сфере энергетики, транспорта, освоения космоса, получения новых материалов с заданными свойствами и других. Изучение физики вносит основной вклад в формирование естественно-научной картины мира обучающихся, в формирование умений применять научный метод познания при выполнении ими учебных исследований.

В основу курса физики для уровня среднего общего образования положен ряд идей, которые можно рассматривать как принципы его построения.

Идея целостности. В соответствии с ней курс является логически

завершённым, он содержит материал из всех разделов физики, включает как вопросы классической, так и современной физики.

Идея генерализации. В соответствии с ней материал курса физики объединён вокруг физических теорий. Ведущим в курсе является формирование представлений о структурных уровнях материи, веществе и поле.

Идея гуманитаризации. Её реализация предполагает использование гуманитарного потенциала физической науки, осмысление связи развития физики с развитием общества, а также с мировоззренческими, нравственными и экологическими проблемами.

Идея прикладной направленности. Курс физики предполагает знакомство с широким кругом технических и технологических приложений изученных теорий и законов.

Идея экологизации реализуется посредством введения элементов содержания, посвящённых экологическим проблемам современности, которые связаны с развитием техники и технологий, а также обсуждения проблем рационального природопользования и экологической безопасности.

Стержневыми элементами курса физики на уровне среднего общего образования являются физические теории (формирование представлений о структуре построения физической теории, роли фундаментальных законов и принципов в современных представлениях о природе, границах применимости теорий, для описания естественно-научных явлений и процессов).

Системно-деятельностный подход в курсе физики реализуется прежде всего за счёт организации экспериментальной деятельности обучающихся. Для базового уровня курса физики - это использование системы фронтальных кратковременных экспериментов и лабораторных работ, которые в программе по физике объединены в общий список ученических практических работ. Выделение в указанном перечне лабораторных работ, проводимых для контроля и оценки, осуществляется участниками образовательного процесса исходя из особенностей планирования и оснащения кабинета физики. При этом обеспечивается овладение обучающимися умениями проводить косвенные измерения, исследования зависимостей физических величин и постановку опытов по проверке предложенных гипотез.

Большое внимание уделяется решению расчётных и качественных задач. При этом для расчётных задач приоритетом являются задачи с явно заданной физической моделью, позволяющие применять изученные законы и закономерности как из одного раздела курса, так и интегрируя знания из разных разделов. Для качественных задач приоритетом являются задания на

объяснение протекания физических явлений и процессов в окружающей жизни, требующие выбора физической модели для ситуации практико - ориентированного характера.

В соответствии с требованиями ФГОС СОО к материальнотехническому обеспечению учебного процесса базовый уровень курса физики на уровне среднего общего образования должен изучаться в условиях предметного кабинета физики или в условиях интегрированного кабинета предметов естественно-научного цикла. В кабинете физики должно быть необходимое лабораторное оборудование для выполнения указанных в программе по физике ученических практических работ и демонстрационное оборудование.

Демонстрационное оборудование формируется в соответствии с принципом минимальной достаточности и обеспечивает постановку перечисленных в программе по физике ключевых демонстраций для исследования изучаемых явлений и процессов, эмпирических и фундаментальных законов, их технических применений.

Лабораторное оборудование для ученических практических работ формируется в виде тематических комплектов и обеспечивается в расчёте одного комплекта на двух обучающихся. Тематические комплекты лабораторного оборудования должны быть построены на комплексном использовании аналоговых и цифровых приборов, а также компьютерных измерительных систем в виде цифровых лабораторий.

Основными целями изучения физики в общем образовании являются:

- формирование интереса и стремления обучающихся к научному изучению природы, развитие их интеллектуальных и творческих способностей;
- развитие представлений о научном методе познания и формирование исследовательского отношения к окружающим явлениям;
- формирование научного мировоззрения как результата изучения основ строения материи и фундаментальных законов физики;
- формирование умений объяснять явления с использованием физических знаний и научных доказательств;
- формирование представлений о роли физики для развития других естественных наук, техники и технологий.

Достижение этих целей обеспечивается решением следующих задач в процессе изучения курса физики на уровне среднего общего образования:

- приобретение системы знаний об общих физических закономерностях, законах, теориях, включая механику, молекулярную

физику, электродинамику, квантовую физику и элементы астрофизики;

- формирование умений применять теоретические знания для объяснения физических явлений в природе и для принятия практических решений в повседневной жизни;
- освоение способов решения различных задач с явно заданной физической моделью, задач, подразумевающих самостоятельное создание физической модели, адекватной условиям задачи;
- понимание физических основ и принципов действия технических устройств и технологических процессов, их влияния на окружающую среду;
- овладение методами самостоятельного планирования и проведения физических экспериментов, анализа и интерпретации информации, определения достоверности полученного результата;
- создание условий для развития умений проектно-исследовательской, творческой деятельности.

На изучение физики (базовый уровень) на уровне среднего общего образования отводится 136 часов: в 10 классе - 68 часов (2 часа в неделю), в 11 классе - 68 часов (2 часа в неделю).

Предлагаемый в программе по физике перечень лабораторных и практических работ является рекомендованным, учитель делает выбор проведения лабораторных работ и опытов с учётом индивидуальных особенностей обучающихся.

СОДЕРЖАНИЕ ОБУЧЕНИЯ

10 КЛАСС

Раздел 1. Физика и методы научного познания

Физика - наука о природе. Научные методы познания окружающего мира. Роль эксперимента и теории в процессе познания природы. Эксперимент в физике.

Моделирование физических явлений и процессов. Научные гипотезы. Физические законы и теории. Границы применимости физических законов. Принцип соответствия.

Роль и место физики в формировании современной научной картины мира, в практической деятельности людей.

Демонстрации

Аналоговые и цифровые измерительные приборы, компьютерные датчики.

Раздел 2. Механика

Тема 1. Кинематика

Механическое движение. Относительность механического движения. Система отсчёта. Траектория.

Перемещение, скорость (средняя скорость, мгновенная скорость) и ускорение материальной точки, их проекции на оси системы координат. Сложение перемещений и сложение скоростей.

Равномерное и равноускоренное прямолинейное движение. Графики зависимости координат, скорости, ускорения, пути и перемещения материальной точки от времени.

Свободное падение. Ускорение свободного падения.

Криволинейное движение. Движение материальной точки по окружности с постоянной по модулю скоростью. Угловая скорость, линейная скорость. Период и частота обращения. Центробежное ускорение.

Технические устройства и практическое применение: спидометр, движение снарядов, цепные и ремённые передачи.

Демонстрации

Модель системы отсчёта, иллюстрация кинематических характеристик движения.

Преобразование движений с использованием простых механизмов.

Падение тел в воздухе и в разреженном пространстве.

Наблюдение движения тела, брошенного под углом к горизонту и горизонтально.

Измерение ускорения свободного падения.

Направление скорости при движении по окружности.

Ученический эксперимент, лабораторные работы

Изучение неравномерного движения с целью определения мгновенной скорости.

Исследование соотношения между путями, пройденными телом за последовательные равные промежутки времени при равноускоренном движении с начальной скоростью, равной нулю.

Изучение движения шарика в вязкой жидкости.

Изучение движения тела, брошенного горизонтально.

Тема 2. Динамика

Принцип относительности Галилея. Первый закон Ньютона. Инерциальные системы отсчёта.

Масса тела. Сила. Принцип суперпозиции сил. Второй закон Ньютона для материальной точки. Третий закон Ньютона для материальных точек.

Закон всемирного тяготения. Сила тяжести. Первая космическая скорость.

Сила упругости. Закон Гука. Вес тела.

Трение. Виды трения (покоя, скольжения, качения). Сила трения. Сухое трение. Сила трения скольжения и сила трения покоя. Коэффициент трения. Сила сопротивления при движении тела в жидкости или газе.

Поступательное и вращательное движение абсолютно твёрдого тела.

Момент силы относительно оси вращения. Плечо силы. Условия равновесия твёрдого тела.

Технические устройства и практическое применение: подшипники, движение искусственных спутников.

Демонстрации

Явление инерции.

Сравнение масс взаимодействующих тел.

Второй закон Ньютона.

Измерение сил.

Сложение сил.

Зависимость силы упругости от деформации.

Невесомость. Вес тела при ускоренном подъёме и падении.

Сравнение сил трения покоя, качения и скольжения.

Условия равновесия твёрдого тела. Виды равновесия.

Ученический эксперимент, лабораторные работы

Изучение движения бруска по наклонной плоскости.

Исследование зависимости сил упругости, возникающих в пружине и резиновом образце, от их деформации.

Исследование условий равновесия твёрдого тела, имеющего ось вращения.

Тема 3. Законы сохранения в механике

Импульс материальной точки (тела), системы материальных точек. Импульс силы и изменение импульса тела. Закон сохранения импульса. Реактивное движение.

Работа силы. Мощность силы.

Кинетическая энергия материальной точки. Теорема об изменении кинетической энергии.

Потенциальная энергия. Потенциальная энергия упруго деформированной пружины. Потенциальная энергия тела вблизи поверхности Земли.

Потенциальные и непотенциальные силы. Связь работы непотенциальных сил с изменением механической энергии системы тел. Закон сохранения механической энергии.

Упругие и неупругие столкновения.

Технические устройства и практическое применение: водомёт, копёр, пружинный пистолет, движение ракет.

Демонстрации

Закон сохранения импульса.

Реактивное движение.

Переход потенциальной энергии в кинетическую и обратно.

Ученический эксперимент, лабораторные работы

Изучение абсолютно неупругого удара с помощью двух одинаковых нитяных маятников.

Исследование связи работы силы с изменением механической энергии тела на примере растяжения резинового жгута.

Раздел 3. Молекулярная физика и термодинамика

Тема 1. Основы молекулярно-кинетической теории

Основные положения молекулярно-кинетической теории и их опытное обоснование. Броуновское движение. Диффузия. Характер движения и взаимодействия частиц вещества. Модели строения газов, жидкостей и твёрдых тел и объяснение свойств вещества на основе этих моделей. Масса и размеры молекул. Количество вещества. Постоянная Авогадро.

Тепловое равновесие. Температура и её измерение. Шкала температур Цельсия.

Модель идеального газа. Основное уравнение молекулярно-кинетической теории идеального газа. Абсолютная температура как мера средней кинетической энергии теплового движения частиц газа. Шкала температур Кельвина. Газовые законы. Уравнение Менделеева-Клапейрона. Закон Дальтона. Изопроцессы в идеальном газе с постоянным количеством вещества. Графическое представление изопроцессов: изотерма, изохора, изобара.

Технические устройства и практическое применение: термометр, барометр.

Демонстрации

Опыты, доказывающие дискретное строение вещества, фотографии молекул органических соединений.

Опыты по диффузии жидкостей и газов.

Модель броуновского движения.

Модель опыта Штерна.

Опыты, доказывающие существование межмолекулярного взаимодействия.

Модель, иллюстрирующая природу давления газа на стенки сосуда.

Опыты, иллюстрирующие уравнение состояния идеального газа, изопроцессы.

Ученический эксперимент, лабораторные работы

Определение массы воздуха в классной комнате на основе измерений объёма комнаты, давления и температуры воздуха в ней.

Исследование зависимости между параметрами состояния разреженного газа.

Тема 2. Основы термодинамики

Термодинамическая система. Внутренняя энергия термодинамической системы и способы её изменения. Количество теплоты и работа. Внутренняя энергия одноатомного идеального газа. Виды теплопередачи: теплопроводность, конвекция, излучение. Удельная теплоёмкость вещества. Количество теплоты при теплопередаче.

Понятие об адиабатном процессе. Первый закон термодинамики. Применение первого закона термодинамики к изопроцессам. Графическая интерпретация работы газа.

Второй закон термодинамики. Необратимость процессов в природе.

Тепловые машины. Принципы действия тепловых машин. Преобразования энергии в тепловых машинах. Коэффициент полезного действия тепловой машины. Цикл Карно и его коэффициент полезного действия. Экологические проблемы теплоэнергетики.

Технические устройства и практическое применение: двигатель внутреннего сгорания, бытовой холодильник, кондиционер.

Демонстрации

Изменение внутренней энергии тела при совершении работы: вылет пробки из бутылки под действием сжатого воздуха, нагревание эфира в латунной трубке путём трения (видеодемонстрация).

Изменение внутренней энергии (температуры) тела при теплопередаче.

Опыт по адиабатному расширению воздуха (опыт с воздушным огнём).

Модели паровой турбины, двигателя внутреннего сгорания, реактивного двигателя.

Ученический эксперимент, лабораторные работы

Измерение удельной теплоёмкости.

Тема 3. Агрегатные состояния вещества. Фазовые переходы

Парообразование и конденсация. Испарение и кипение. Абсолютная и относительная влажность воздуха. Насыщенный пар. Удельная теплота парообразования. Зависимость температуры кипения от давления.

Твёрдое тело. Кристаллические и аморфные тела. Анизотропия свойств кристаллов. Жидкие кристаллы. Современные материалы. Плавление и кристаллизация. Удельная теплота плавления. Сублимация.

Уравнение теплового баланса.

Технические устройства и практическое применение: гигрометр и психрометр, калориметр, технологии получения современных материалов, в том числе наноматериалов, и нанотехнологии.

Демонстрации

Свойства насыщенных паров.

Кипение при пониженном давлении.

Способы измерения влажности.

Наблюдение нагревания и плавления кристаллического вещества.

Демонстрация кристаллов.

Ученический эксперимент, лабораторные работы

Измерение относительной влажности воздуха.

Раздел 4. Электродинамика

Тема 1. Электростатика

Электризация тел. Электрический заряд. Два вида электрических зарядов. Проводники, диэлектрики и полупроводники. Закон сохранения электрического заряда.

Взаимодействие зарядов. Закон Кулона. Точечный электрический заряд. Электрическое поле. Напряжённость электрического поля. Принцип суперпозиции электрических полей. Линии напряжённости электрического поля.

Работа сил электростатического поля. Потенциал. Разность потенциалов. Проводники и диэлектрики в электростатическом поле. Диэлектрическая проницаемость.

Емкость. Конденсатор. Емкость плоского конденсатора. Энергия заряженного конденсатора.

Технические устройства и практическое применение: электроскоп, электрометр, электростатическая защита, заземление электроприборов, конденсатор, копировальный аппарат, струйный принтер.

Демонстрации

Устройство и принцип действия электрометра.

Взаимодействие наэлектризованных тел.

Электрическое поле заряженных тел.

Проводники в электростатическом поле.

Электростатическая защита.

Диэлектрики в электростатическом поле.

Зависимость электроёмкости плоского конденсатора от площади пластин, расстояния между ними и диэлектрической проницаемости.

Энергия заряженного конденсатора.

Ученический эксперимент, лабораторные работы

Измерение электроёмкости конденсатора.

Тема 2. Постоянный электрический ток. Токи в различных средах

Электрический ток. Условия существования электрического тока. Источники тока. Сила тока. Постоянный ток.

Напряжение. Закон Ома для участка цепи.

Электрическое сопротивление. Удельное сопротивление вещества. Последовательное, параллельное, смешанное соединение проводников.

Работа электрического тока. Закон Джоуля-Ленца. Мощность электрического тока.

Электродвижущая сила и внутреннее сопротивление источника тока. Закон Ома для полной (замкнутой) электрической цепи. Короткое замыкание.

Электронная проводимость твёрдых металлов. Зависимость сопротивления металлов от температуры. Сверхпроводимость.

Электрический ток в вакууме. Свойства электронных пучков.

Полупроводники. Собственная и примесная проводимость полупроводников. Свойства p-n-перехода. Полупроводниковые приборы.

Электрический ток в растворах и расплавах электролитов. Электролитическая диссоциация. Электролиз.

Электрический ток в газах. Самостоятельный и несамостоятельный разряд. Молния. Плазма.

Технические устройства и практическое применение: амперметр, вольтметр, реостат, источники тока, электронагревательные приборы, электроосветительные приборы, термометр сопротивления, вакуумный диод, термисторы и фоторезисторы, полупроводниковый диод, гальваника.

Демонстрации

Измерение силы тока и напряжения.

Зависимость сопротивления цилиндрических проводников от длины, площади поперечного сечения и материала.

Смешанное соединение проводников.

Прямое измерение электродвижущей силы. Короткое замыкание

гальванического элемента и оценка внутреннего сопротивления.

Зависимость сопротивления металлов от температуры.

Проводимость электролитов.

Искровой разряд и проводимость воздуха.

Односторонняя проводимость диода.

Ученический эксперимент, лабораторные работы

Изучение смешанного соединения резисторов.

Измерение электродвижущей силы источника тока и его внутреннего сопротивления.

Наблюдение электролиза.

Межпредметные связи

Изучение курса физики базового уровня в 10 классе осуществляется с учётом содержательных межпредметных связей с курсами математики, биологии, химии, географии и технологии.

Межпредметные понятия, связанные с изучением методов научного познания: явление, научный факт, гипотеза, физическая величина, закон, теория, наблюдение, эксперимент, моделирование, модель, измерение.

Математика: решение системы уравнений, линейная функция, парабола, гипербола, их графики и свойства, тригонометрические функции: синус, косинус, тангенс, котангенс, основное тригонометрическое тождество, векторы и их проекции на оси координат, сложение векторов.

Биология: механическое движение в живой природе, диффузия, осмос, теплообмен живых организмов (виды теплопередачи, тепловое равновесие), электрические явления в живой природе.

Химия: дискретное строение вещества, строение атомов и молекул, моль вещества, молярная масса, тепловые свойства твёрдых тел, жидкостей и газов, электрические свойства металлов, электролитическая диссоциация, гальваника.

География: влажность воздуха, ветры, барометр, термометр.

Технология: преобразование движений с использованием механизмов, учёт трения в технике, подшипники, использование закона сохранения импульса в технике (ракета, водомёт и другие), двигатель внутреннего сгорания, паровая турбина, бытовой холодильник, кондиционер, технологии получения современных материалов, в том числе наноматериалов, и нанотехнологии, электростатическая защита, заземление электроприборов, ксерокс, струйный принтер, электронагревательные приборы, электроосветительные приборы, гальваника.

11 КЛАСС

Раздел 4. Электродинамика

Тема 3. Магнитное поле. Электромагнитная индукция

Постоянные магниты. Взаимодействие постоянных магнитов. Магнитное поле. Вектор магнитной индукции. Принцип суперпозиции магнитных полей. Линии магнитной индукции. Картина линий магнитной индукции поля постоянных магнитов.

Магнитное поле проводника с током. Картина линий индукции магнитного поля длинного прямого проводника и замкнутого кольцевого проводника, катушки с током. Опыт Эрстеда. Взаимодействие проводников с током.

Сила Ампера, её модуль и направление.

Сила Лоренца, её модуль и направление. Движение заряженной частицы в однородном магнитном поле. Работа силы Лоренца.

Явление электромагнитной индукции. Поток вектора магнитной индукции. Электродвижущая сила индукции. Закон электромагнитной индукции Фарадея.

Вихревое электрическое поле. Электродвижущая сила индукции в проводнике, движущемся поступательно в однородном магнитном поле.

Правило Ленца.

Индуктивность. Явление самоиндукции. Электродвижущая сила самоиндукции.

Энергия магнитного поля катушки с током.

Электромагнитное поле.

Технические устройства и практическое применение: постоянные магниты, электромагниты, электродвигатель, ускорители элементарных частиц, индукционная печь.

Демонстрации

Опыт Эрстеда.

Отклонение электронного пучка магнитным полем.

Линии индукции магнитного поля.

Взаимодействие двух проводников с током.

Сила Ампера.

Действие силы Лоренца на ионы электролита.

Явление электромагнитной индукции.

Правило Ленца.

Зависимость электродвижущей силы индукции от скорости изменения магнитного потока.

Явление самоиндукции.

Ученический эксперимент, лабораторные работы

Изучение магнитного поля катушки с током.

Исследование действия постоянного магнита на рамку с током.

Исследование явления электромагнитной индукции.

Раздел 5. Колебания и волны

Тема 1. Механические и электромагнитные колебания

Колебательная система. Свободные механические колебания. Гармонические колебания. Период, частота, амплитуда и фаза колебаний. Пружинный маятник. Математический маятник. Уравнение гармонических колебаний. Превращение энергии при гармонических колебаниях.

Колебательный контур. Свободные электромагнитные колебания в идеальном колебательном контуре. Аналогия между механическими и электромагнитными колебаниями. Формула Томсона. Закон сохранения энергии в идеальном колебательном контуре.

Представление о затухающих колебаниях. Вынужденные механические колебания. Резонанс. Вынужденные электромагнитные колебания.

Переменный ток. Синусоидальный переменный ток. Мощность переменного тока. Амплитудное и действующее значение силы тока и напряжения.

Трансформатор. Производство, передача и потребление электрической энергии. Экологические риски при производстве электроэнергии. Культура использования электроэнергии в повседневной жизни.

Технические устройства и практическое применение: электрический звонок, генератор переменного тока, линии электропередач.

Демонстрации

Исследование параметров колебательной системы (пружинный или математический маятник).

Наблюдение затухающих колебаний.

Исследование свойств вынужденных колебаний.

Наблюдение резонанса.

Свободные электромагнитные колебания.

Осциллограммы (зависимости силы тока и напряжения от времени) для электромагнитных колебаний.

Резонанс при последовательном соединении резистора, катушки индуктивности и конденсатора.

Модель линии электропередачи.

Ученический эксперимент, лабораторные работы

Исследование зависимости периода малых колебаний груза на нити от длины нити и массы груза.

Исследование переменного тока в цепи из последовательно соединённых конденсатора, катушки и резистора.

Тема 2. Механические и электромагнитные волны

Механические волны, условия распространения. Период. Скорость распространения и длина волны. Поперечные и продольные волны. Интерференция и дифракция механических волн.

Звук. Скорость звука. Громкость звука. Высота тона. Тембр звука.

Электромагнитные волны. Условия излучения электромагнитных волн. Взаимная ориентация векторов E , B , V в электромагнитной волне. Свойства электромагнитных волн: отражение, преломление, поляризация, дифракция, интерференция. Скорость электромагнитных волн.

Шкала электромагнитных волн. Применение электромагнитных волн в технике и быту.

Принципы радиосвязи и телевидения. Радиолокация.

Электромагнитное загрязнение окружающей среды.

Технические устройства и практическое применение: музыкальные инструменты, ультразвуковая диагностика в технике и медицине, радар, радиоприёмник, телевизор, антенна, телефон, СВЧ-печь.

Демонстрации

Образование и распространение поперечных и продольных волн.

Колеблущееся тело как источник звука.

Наблюдение отражения и преломления механических волн.

Наблюдение интерференции и дифракции механических волн.

Звуковой резонанс.

Наблюдение связи громкости звука и высоты тона с амплитудой и частотой колебаний.

Исследование свойств электромагнитных волн: отражение, преломление, поляризация, дифракция, интерференция.

Тема 3. Оптика

Геометрическая оптика. Прямолинейное распространение света в однородной среде. Луч света. Точечный источник света.

Отражение света. Законы отражения света. Построение изображений в плоском зеркале.

Преломление света. Законы преломления света. Абсолютный показатель преломления. Полное внутреннее отражение. Предельный угол полного внутреннего отражения.

Дисперсия света. Сложный состав белого света. Цвет.

Собирающие и рассеивающие линзы. Тонкая линза. Фокусное расстояние и оптическая сила тонкой линзы. Построение изображений в собирающих и рассеивающих линзах. Формула тонкой линзы. Увеличение, даваемое линзой.

Пределы применимости геометрической оптики.

Волновая оптика. Интерференция света. Когерентные источники. Условия наблюдения максимумов и минимумов в интерференционной картине от двух синфазных когерентных источников.

Дифракция света. Дифракционная решётка. Условие наблюдения главных максимумов при падении монохроматического света на

дифракционную решётку.

Поляризация света.

Технические устройства и практическое применение: очки, лупа, фотоаппарат, проекционный аппарат, микроскоп, телескоп, волоконная оптика, дифракционная решётка, поляроид.

Демонстрации

Прямолинейное распространение, отражение и преломление света.
Оптические приборы.

Полное внутреннее отражение. Модель световода.

Исследование свойств изображений в линзах.

Модели микроскопа, телескопа.

Наблюдение интерференции света.

Наблюдение дифракции света.

Наблюдение дисперсии света.

Получение спектра с помощью призмы.

Получение спектра с помощью дифракционной решётки.

Наблюдение поляризации света.

Ученический эксперимент, лабораторные работы

Измерение показателя преломления стекла.

Исследование свойств изображений в линзах.

Наблюдение дисперсии света.

Раздел 6. Основы специальной теории относительности

Границы применимости классической механики. Постулаты специальной теории относительности: инвариантность модуля скорости света в вакууме, принцип относительности Эйнштейна.

Относительность одновременности. Замедление времени и сокращение длины.

Энергия и импульс релятивистской частицы.

Связь массы с энергией и импульсом релятивистской частицы. Энергия покоя.

Раздел 7. Квантовая физика

Тема 1. Элементы квантовой оптики

Фотоны. Формула Планка связи энергии фотона с его частотой. Энергия и импульс фотона.

Открытие и исследование фотоэффекта. опыты А. Г. Столетова. Законы фотоэффекта. Уравнение Эйнштейна для фотоэффекта. «Красная граница» фотоэффекта.

Давление света. опыты П. Н. Лебедева.

Химическое действие света.

Технические устройства и практическое применение: фотоэлемент, фотодатчик, солнечная батарея, светодиод.

Демонстрации

Фотоэффект на установке с цинковой пластиной.

Исследование законов внешнего фотоэффекта.

Светодиод.

Солнечная батарея.

Тема 2. Строение атома

Модель атома Томсона. Опыты Резерфорда по рассеянию α -частиц. Планетарная модель атома. Постулаты Бора. Излучение и поглощение фотонов при переходе атома с одного уровня энергии на другой. Виды спектров. Спектр уровней энергии атома водорода.

Волновые свойства частиц. Волны де Бройля. Корпускулярно -волновой дуализм.

Спонтанное и вынужденное излучение.

Технические устройства и практическое применение: спектральный анализ (спектроскоп), лазер, квантовый компьютер.

Демонстрации

Модель опыта Резерфорда.

Определение длины волны лазера.

Наблюдение линейчатых спектров излучения.

Лазер.

Ученический эксперимент, лабораторные работы

Наблюдение линейчатого спектра.

Тема 3. Атомное ядро

Эксперименты, доказывающие сложность строения ядра. Открытие радиоактивности. Опыты Резерфорда по определению состава радиоактивного излучения. Свойства альфа-, бета-, гамма-излучения. Влияние радиоактивности на живые организмы.

Открытие протона и нейтрона. Нуклонная модель ядра Гейзенберга-Иваненко. Заряд ядра. Массовое число ядра. Изотопы.

Альфа-распад. Электронный и позитронный бета-распад. Гамма-излучение. Закон радиоактивного распада.

Энергия связи нуклонов в ядре. Ядерные силы. Дефект массы ядра.

Ядерные реакции. Деление и синтез ядер.

Ядерный реактор. Термоядерный синтез. Проблемы и перспективы ядерной энергетики. Экологические аспекты ядерной энергетики.

Элементарные частицы. Открытие позитрона.

Методы наблюдения и регистрации элементарных частиц.

Фундаментальные взаимодействия. Единство физической картины мира.

Технические устройства и практическое применение: дозиметр, камера

Вильсона, ядерный реактор, атомная бомба.

Демонстрации

Счётчик ионизирующих частиц.

Ученический эксперимент, лабораторные работы

Исследование треков частиц (по готовым фотографиям).

Раздел 8. Элементы астрономии и астрофизики

Этапы развития астрономии. Прикладное и мировоззренческое значение астрономии.

Вид звёздного неба. Созвездия, яркие звёзды, планеты, их видимое движение.

Солнечная система.

Солнце. Солнечная активность. Источник энергии Солнца и звёзд. Звёзды, их основные характеристики. Диаграмма «спектральный класс - светимость». Звёзды главной последовательности. Зависимость «масса - светимость» для звёзд главной последовательности. Внутреннее строение звёзд. Современные представления о происхождении и эволюции Солнца и звёзд. Этапы жизни звёзд.

Млечный Путь - наша Галактика. Положение и движение Солнца в Галактике. Типы галактик. Радиогалактики и квазары. Чёрные дыры в ядрах галактик.

Вселенная. Расширение Вселенной. Закон Хаббла. Разбегание галактик. Теория Большого взрыва. Реликтовое излучение.

Масштабная структура Вселенной. Метагалактика.

Нерешённые проблемы астрономии.

Ученические наблюдения

Наблюдения невооружённым глазом с использованием компьютерных приложений для определения положения небесных объектов на конкретную дату: основные созвездия Северного полушария и яркие звёзды.

Наблюдения в телескоп Луны, планет, Млечного Пути.

Обобщающее повторение

Роль физики и астрономии в экономической, технологической, социальной и этической сферах деятельности человека, роль и место физики и астрономии в современной научной картине мира, роль физической теории в формировании представлений о физической картине мира, место физической картины мира в общем ряду современных естественно-научных представлений о природе.

Межпредметные связи

Изучение курса физики базового уровня в 11 классе осуществляется с учётом содержательных межпредметных связей с курсами математики, биологии, химии, географии и технологии.

Межпредметные понятия, связанные с изучением методов научного познания: явление, научный факт, гипотеза, физическая величина, закон, теория, наблюдение, эксперимент, моделирование, модель, измерение.

Математика: решение системы уравнений, тригонометрические функции: синус, косинус, тангенс, котангенс, основное тригонометрическое тождество, векторы и их проекции на оси координат, сложение векторов, производные элементарных функций, признаки подобия треугольников, определение площади плоских фигур и объёма тел.

Биология: электрические явления в живой природе, колебательные движения в живой природе, оптические явления в живой природе, действие радиации на живые организмы.

Химия: строение атомов и молекул, кристаллическая структура твёрдых тел, механизмы образования кристаллической решётки, спектральный анализ.

География: магнитные полюса Земли, залежи магнитных руд, фотосъёмка земной поверхности, предсказание землетрясений.

Технология: линии электропередач, генератор переменного тока, электродвигатель, индукционная печь, радар, радиоприёмник, телевизор, антенна, телефон, СВЧ-печь, проекционный аппарат, волоконная оптика, солнечная батарея.

ПЛАНИРУЕМЫЕ РЕЗУЛЬТАТЫ ОСВОЕНИЯ ПРОГРАММЫ ПО ФИЗИКЕ НА УРОВНЕ СРЕДНЕГО ОБЩЕГО ОБРАЗОВАНИЯ

Освоение учебного предмета «Физика» на уровне среднего общего образования (базовый уровень) должно обеспечить достижение следующих личностных, метапредметных и предметных образовательных результатов.

ЛИЧНОСТНЫЕ РЕЗУЛЬТАТЫ

Личностные результаты освоения учебного предмета «Физика» должны отражать готовность и способность обучающихся руководствоваться сформированной внутренней позицией личности, системой ценностных ориентаций, позитивных внутренних убеждений, соответствующих традиционным ценностям российского общества, расширение жизненного опыта и опыта деятельности в процессе реализации основных направлений воспитательной деятельности, в том числе в части:

1) гражданского воспитания:

сформированность гражданской позиции обучающегося как активного и ответственного члена российского общества;

принятие традиционных общечеловеческих гуманистических и демократических ценностей;

готовность вести совместную деятельность в интересах гражданского общества, участвовать в самоуправлении в образовательной организации;

умение взаимодействовать с социальными институтами в соответствии с их функциями и назначением;

готовность к гуманитарной и волонтерской деятельности;

2) патриотического воспитания:

сформированность российской гражданской идентичности, патриотизма;

ценностное отношение к государственным символам, достижениям российских учёных в области физики и техники;

3) духовно-нравственного воспитания:

сформированность нравственного сознания, этического поведения;

способность оценивать ситуацию и принимать осознанные решения, ориентируясь на морально-нравственные нормы и ценности, в том числе в деятельности учёного;

осознание личного вклада в построение устойчивого будущего;

4) эстетического воспитания:

эстетическое отношение к миру, включая эстетику научного творчества, присущего физической науке;

5)трудового воспитания:

интерес к различным сферам профессиональной деятельности, в том числе связанным с физикой и техникой, умение совершать осознанный выбор будущей профессии и реализовывать собственные жизненные планы;

готовность и способность к образованию и самообразованию в области физики на протяжении всей жизни;

6)экологического воспитания:

сформированность экологической культуры, осознание глобального характера экологических проблем;

планирование и осуществление действий в окружающей среде на основе знания целей устойчивого развития человечества;

расширение опыта деятельности экологической направленности на основе имеющихся знаний по физике;

7)ценности научного познания:

сформированность мировоззрения, соответствующего современному уровню развития физической науки;

осознание ценности научной деятельности, готовность в процессе изучения физики осуществлять проектную и исследовательскую деятельность индивидуально и в группе.

МЕТАПРЕДМЕТНЫЕ РЕЗУЛЬТАТЫ

Познавательные универсальные учебные действия

Базовые логические действия:

самостоятельно формулировать и актуализировать проблему, рассматривать её всесторонне;

определять цели деятельности, задавать параметры и критерии их достижения;

выявлять закономерности и противоречия в рассматриваемых физических явлениях;

разрабатывать план решения проблемы с учётом анализа имеющихся материальных и нематериальных ресурсов;

вносить коррективы в деятельность, оценивать соответствие результатов целям, оценивать риски последствий деятельности;

координировать и выполнять работу в условиях реального, виртуального и комбинированного взаимодействия;

развивать креативное мышление при решении жизненных проблем.

Базовые исследовательские действия:

владеть научной терминологией, ключевыми понятиями и методами физической науки;

владеть навыками учебно-исследовательской и проектной деятельности в области физики, способностью и готовностью к самостоятельному поиску методов решения задач физического содержания, применению различных методов познания;

владеть видами деятельности по получению нового знания, его интерпретации, преобразованию и применению в различных учебных ситуациях, в том числе при создании учебных проектов в области физики;

выявлять причинно-следственные связи и актуализировать задачу, выдвигать гипотезу её решения, находить аргументы для доказательства своих утверждений, задавать параметры и критерии решения;

анализировать полученные в ходе решения задачи результаты, критически оценивать их достоверность, прогнозировать изменение в новых условиях;

ставить и формулировать собственные задачи в образовательной деятельности, в том числе при изучении физики;

давать оценку новым ситуациям, оценивать приобретённый опыт;

уметь переносить знания по физике в практическую область жизнедеятельности;

уметь интегрировать знания из разных предметных областей;

выдвигать новые идеи, предлагать оригинальные подходы и решения;

ставить проблемы и задачи, допускающие альтернативные решения.

Работа с информацией:

владеть навыками получения информации физического содержания из источников разных типов, самостоятельно осуществлять поиск, анализ, систематизацию и интерпретацию информации различных видов и форм представления;

оценивать достоверность информации;

использовать средства информационных и коммуникационных технологий в решении когнитивных, коммуникативных и организационных задач с соблюдением требований эргономики, техники безопасности, гигиены, ресурсосбережения, правовых и этических норм, норм информационной безопасности;

создавать тексты физического содержания в различных форматах с учётом назначения информации и целевой аудитории, выбирая оптимальную форму представления и визуализации.

Коммуникативные универсальные учебные действия:

осуществлять общение на уроках физики и во вне-урочной деятельности;

распознавать предпосылки конфликтных ситуаций и смягчать

конфликты;

развёрнуто и логично излагать свою точку зрения с использованием языковых средств;

понимать и использовать преимущества командной и индивидуальной работы;

выбирать тематику и методы совместных действий с учётом общих интересов и возможностей каждого члена коллектива;

принимать цели совместной деятельности, организовывать и координировать действия по её достижению: составлять план действий, распределять роли с учётом мнений участников, обсуждать результаты совместной работы;

оценивать качество своего вклада и каждого участника команды в общий результат по разработанным критериям;

предлагать новые проекты, оценивать идеи с позиции новизны, оригинальности, практической значимости;

осуществлять позитивное стратегическое поведение в различных ситуациях, проявлять творчество и воображение, быть инициативным.

Регулятивные универсальные учебные действия

Самоорганизация:

самостоятельно осуществлять познавательную деятельность в области физики и астрономии, выявлять проблемы, ставить и формулировать собственные задачи;

самостоятельно составлять план решения расчётных и качественных задач, план выполнения практической работы с учётом имеющихся ресурсов, собственных возможностей и предпочтений;

давать оценку новым ситуациям;

расширять рамки учебного предмета на основе личных предпочтений;

делать осознанный выбор, аргументировать его, брать на себя ответственность за решение;

оценивать приобретённый опыт;

способствовать формированию и проявлению эрудиции в области физики, постоянно повышать свой образовательный и культурный уровень.

Самоконтроль, эмоциональный интеллект:

давать оценку новым ситуациям, вносить коррективы в деятельность, оценивать соответствие результатов целям;

владеть навыками познавательной рефлексии как осознания совершаемых действий и мыслительных процессов, их результатов и оснований;

использовать приёмы рефлексии для оценки ситуации, выбора верного

решения;

уметь оценивать риски и своевременно принимать решения по их снижению;

принимать мотивы и аргументы других при анализе результатов деятельности;

принимать себя, понимая свои недостатки и достоинства;

принимать мотивы и аргументы других при анализе результатов деятельности;

признавать своё право и право других на ошибки.

В процессе достижения личностных результатов освоения программы по физике для уровня среднего общего образования у обучающихся совершенствуется эмоциональный интеллект, предполагающий сформированность:

самосознания, включающего способность понимать своё эмоциональное состояние, видеть направления развития собственной эмоциональной сферы, быть уверенным в себе;

саморегулирования, включающего самоконтроль, умение принимать ответственность за своё поведение, способность адаптироваться к эмоциональным изменениям и проявлять гибкость, быть открытым новому;

внутренней мотивации, включающей стремление к достижению цели и успеху, оптимизм, инициативность, умение действовать исходя из своих возможностей;

эмпатии, включающей способность понимать эмоциональное состояние других, учитывать его при осуществлении общения, способность к сочувствию и сопереживанию;

социальных навыков, включающих способность выстраивать отношения с другими людьми, заботиться, проявлять интерес и разрешать конфликты.

ПРЕДМЕТНЫЕ РЕЗУЛЬТАТЫ

К концу обучения в **10 классе** предметные результаты на базовом уровне должны отражать сформированность у обучающихся умений:

демонстрировать на примерах роль и место физики в формировании современной научной картины мира, в развитии современной техники и технологий, в практической деятельности людей;

учитывать границы применения изученных физических моделей: материальная точка, инерциальная система отсчёта, абсолютно твёрдое тело, идеальный газ, модели строения газов, жидкостей и твёрдых тел, точечный электрический заряд при решении физических задач;

распознавать физические явления (процессы) и объяснять их на основе

законов механики, молекулярно-кинетической теории строения вещества и электродинамики: равномерное и равноускоренное прямолинейное движение, свободное падение тел, движение по окружности, инерция, взаимодействие тел, диффузия, броуновское движение, строение жидкостей и твёрдых тел, изменение объёма тел при нагревании (охлаждении), тепловое равновесие, испарение, конденсация, плавление, кристаллизация, кипение, влажность воздуха, повышение давления газа при его нагревании в закрытом сосуде, связь между параметрами состояния газа в изопроцессах, электризация тел, взаимодействие зарядов;

описывать механическое движение, используя физические величины: координата, путь, перемещение, скорость, ускорение, масса тела, сила, импульс тела, кинетическая энергия, потенциальная энергия, механическая работа, механическая мощность; при описании правильно трактовать физический смысл используемых величин, их обозначения и единицы, находить формулы, связывающие данную физическую величину с другими величинами;

описывать изученные тепловые свойства тел и тепловые явления, используя физические величины: давление газа, температура, средняя кинетическая энергия хаотического движения молекул, среднеквадратичная скорость молекул, количество теплоты, внутренняя энергия, работа газа, коэффициент полезного действия теплового двигателя; при описании правильно трактовать физический смысл используемых величин, их обозначения и единицы, находить формулы, связывающие данную физическую величину с другими величинами;

описывать изученные электрические свойства вещества и электрические явления (процессы), используя физические величины: электрический заряд, электрическое поле, напряжённость поля, потенциал, разность потенциалов; при описании правильно трактовать физический смысл используемых величин, их обозначения и единицы; указывать формулы, связывающие данную физическую величину с другими величинами;

анализировать физические процессы и явления, используя физические законы и принципы: закон всемирного тяготения, I, II и III законы Ньютона, закон сохранения механической энергии, закон сохранения импульса, принцип суперпозиции сил, принцип равноправия инерциальных систем отсчёта, молекулярно-кинетическую теорию строения вещества, газовые законы, связь средней кинетической энергии теплового движения молекул с абсолютной температурой, первый закон термодинамики, закон сохранения электрического заряда, закон Кулона, при этом различать словесную формулировку закона, его математическое выражение и условия (границы, области) применимости;

объяснять основные принципы действия машин, приборов и технических устройств; различать условия их безопасного использования в повседневной жизни;

выполнять эксперименты по исследованию физических явлений и процессов с использованием прямых и косвенных измерений, при этом формулировать проблему/задачу и гипотезу учебного эксперимента, собирать установку из предложенного оборудования, проводить опыт и формулировать выводы;

осуществлять прямые и косвенные измерения физических величин, при этом выбирать оптимальный способ измерения и использовать известные методы оценки погрешностей измерений;

исследовать зависимости между физическими величинами с использованием прямых измерений, при этом конструировать установку, фиксировать результаты полученной зависимости физических величин в виде таблиц и графиков, делать выводы по результатам исследования;

соблюдать правила безопасного труда при проведении исследований в рамках учебного эксперимента, учебно-исследовательской и проектной деятельности с использованием измерительных устройств и лабораторного оборудования;

решать расчётные задачи с явно заданной физической моделью, используя физические законы и принципы, на основе анализа условия задачи выбирать физическую модель, выделять физические величины и формулы, необходимые для её решения, проводить расчёты и оценивать реальность полученного значения физической величины;

решать качественные задачи: выстраивать логически непротиворечивую цепочку рассуждений с опорой на изученные законы, закономерности и физические явления;

использовать при решении учебных задач современные информационные технологии для поиска, структурирования, интерпретации и представления учебной и научно-популярной информации, полученной из различных источников, критически анализировать получаемую информацию;

приводить примеры вклада российских и зарубежных учёных-физиков в развитие науки, объяснение процессов окружающего мира, в развитие техники и технологий;

использовать теоретические знания по физике в повседневной жизни для обеспечения безопасности при обращении с приборами и техническими устройствами, для сохранения здоровья и соблюдения норм экологического поведения в окружающей среде;

работать в группе с выполнением различных социальных ролей, планировать работу группы, рационально распределять обязанности и

планировать деятельность в нестандартных ситуациях, адекватно оценивать вклад каждого из участников группы в решение рассматриваемой проблемы.

К концу обучения **в 11 классе** предметные результаты на базовом уровне должны отражать сформированность у обучающихся умений:

демонстрировать на примерах роль и место физики в формировании современной научной картины мира, в развитии современной техники и технологий, в практической деятельности людей, целостность и единство физической картины мира;

учитывать границы применения изученных физических моделей: точечный электрический заряд, луч света, точечный источник света, ядерная модель атома, нуклонная модель атомного ядра при решении физических задач;

распознавать физические явления (процессы) и объяснять их на основе законов электродинамики и квантовой физики: электрическая проводимость, тепловое, световое, химическое, магнитное действия тока, взаимодействие магнитов, электромагнитная индукция, действие магнитного поля на проводник с током и движущийся заряд, электромагнитные колебания и волны, прямолинейное распространение света, отражение, преломление, интерференция, дифракция и поляризация света, дисперсия света, фотоэлектрический эффект (фотоэффект), световое давление, возникновение линейчатого спектра атома водорода, естественная и искусственная радиоактивность;

описывать изученные свойства вещества (электрические, магнитные, оптические, электрическую проводимость различных сред) и электромагнитные явления (процессы), используя физические величины: электрический заряд, сила тока, электрическое напряжение, электрическое сопротивление, разность потенциалов, электродвижущая сила, работа тока, индукция магнитного поля, сила Ампера, сила Лоренца, индуктивность катушки, энергия электрического и магнитного полей, период и частота колебаний в колебательном контуре, заряд и сила тока в процессе гармонических электромагнитных колебаний, фокусное расстояние и оптическая сила линзы, при описании правильно трактовать физический смысл используемых величин, их обозначения и единицы, указывать формулы, связывающие данную физическую величину с другими величинами;

описывать изученные квантовые явления и процессы, используя физические величины: скорость электромагнитных волн, длина волны и частота света, энергия и импульс фотона, период полураспада, энергия связи атомных ядер, при описании правильно трактовать физический смысл используемых величин, их обозначения и единицы, указывать формулы,

связывающие данную физическую величину с другими величинами, вычислять значение физической величины;

анализировать физические процессы и явления, используя физические законы и принципы: закон Ома, законы последовательного и параллельного соединения проводников, закон Джоуля-Ленца, закон электромагнитной индукции, закон прямолинейного распространения света, законы отражения света, законы преломления света, уравнение Эйнштейна для фотоэффекта, закон сохранения энергии, закон сохранения импульса, закон сохранения электрического заряда, закон сохранения массового числа, постулаты Бора, закон радиоактивного распада, при этом различать словесную формулировку закона, его математическое выражение и условия (границы, области) применимости;

определять направление вектора индукции магнитного поля проводника с током, силы Ампера и силы Лоренца;

строить и описывать изображение, создаваемое плоским зеркалом, тонкой линзой;

выполнять эксперименты по исследованию физических явлений и процессов с использованием прямых и косвенных измерений: при этом формулировать проблему/задачу и гипотезу учебного эксперимента, собирать установку из предложенного оборудования, проводить опыт и формулировать выводы;

осуществлять прямые и косвенные измерения физических величин, при этом выбирать оптимальный способ измерения и использовать известные методы оценки погрешностей измерений;

исследовать зависимости физических величин с использованием прямых измерений: при этом конструировать установку, фиксировать результаты полученной зависимости физических величин в виде таблиц и графиков, делать выводы по результатам исследования;

соблюдать правила безопасного труда при проведении исследований в рамках учебного эксперимента, учебно-исследовательской и проектной деятельности с использованием измерительных устройств и лабораторного оборудования;

решать расчётные задачи с явно заданной физической моделью, используя физические законы и принципы, на основе анализа условия задачи выбирать физическую модель, выделять физические величины и формулы, необходимые для её решения, проводить расчёты и оценивать реальность полученного значения физической величины;

решать качественные задачи: выстраивать логически непротиворечивую цепочку рассуждений с опорой на изученные законы, закономерности и физические явления;

использовать при решении учебных задач современные информационные технологии для поиска, структурирования, интерпретации и представления учебной и научно-популярной информации, полученной из различных источников, критически анализировать получаемую информацию;

объяснять принципы действия машин, приборов и технических устройств, различать условия их безопасного использования в повседневной жизни;

приводить примеры вклада российских и зарубежных учёных-физиков в развитие науки, в объяснение процессов окружающего мира, в развитие техники и технологий;

использовать теоретические знания по физике в повседневной жизни для обеспечения безопасности при обращении с приборами и техническими устройствами, для сохранения здоровья и соблюдения норм экологического поведения в окружающей среде;

работать в группе с выполнением различных социальных ролей, планировать работу группы, рационально распределять обязанности и планировать деятельность в нестандартных ситуациях, адекватно оценивать вклад каждого из участников группы в решение рассматриваемой проблемы.

**ТЕМАТИЧЕСКОЕ ПЛАНИРОВАНИЕ
10 КЛАСС**

№ п/п	Наименование разделов и тем программы	Количество часов			Электронные (цифровые) образовательные ресурсы
		Всего	Контрольные работы	Практические работы	
Раздел 1. ФИЗИКА И МЕТОДЫ НАУЧНОГО ПОЗНАНИЯ					
1.1	Физика и методы научного познания	2	1		Библиотека ЦОК https://m.edsoo.ru/7f41bf72
Итого по разделу		2			
Раздел 2. МЕХАНИКА					
2.1	Кинематика	5			Библиотека ЦОК https://m.edsoo.ru/7f41bf72
2.2	Динамика	7			Библиотека ЦОК https://m.edsoo.ru/7f41bf72
2.3	Законы сохранения в механике	6	1	1	Библиотека ЦОК https://m.edsoo.ru/7f41bf72
Итого по разделу		18			
Раздел 3. МОЛЕКУЛЯРНАЯ ФИЗИКА И ТЕРМОДИНАМИКА					
3.1	Основы молекулярно-кинетической теории	9		1	Библиотека ЦОК https://m.edsoo.ru/7f41bf72
3.2	Основы термодинамики	10	1		Библиотека ЦОК https://m.edsoo.ru/7f41bf72
3.3	Агрегатные состояния вещества. Фазовые переходы	5			Библиотека ЦОК https://m.edsoo.ru/7f41bf72

Итого по разделу		24			
Раздел 4.ЭЛЕКТРОДИНАМИКА					
4.1	Электростатика	10		1	Библиотека ЦОК https://Zm.edsoo.ru/7f41bf7
4.2	Постоянный электрический ток. Токи в различных средах	12	1		Библиотека ЦОК https://Zm.edsoo.ru/7f41bf7
Итого по разделу		22			
Резервное время		2			
ОБЩЕЕ КОЛИЧЕСТВО ЧАСОВ ПО ПРОГРАММЕ		68	3	3	

11 КЛАСС

№ п/п	Наименование разделов и тем программы	Количество часов			Электронные (цифровые) образовательные ресурсы
		Всего	Контрольные работы	Практические работы	
Раздел 1.ЭЛЕКТРОДИНАМИКА					
1.1	Магнитное поле. Электромагнитная индукция	11	1	3	Библиотека ЦОК https://m.edsoo.ru/7f41c97c
Итого по разделу		11			
Раздел 2.КОЛЕБАНИЯ И ВОЛНЫ					
2.1	Механические и электромагнитные колебания	9		1	Библиотека ЦОК https://m.edsoo.ru/7f41c97c
2.2	Механические и электромагнитные волны	5	1		Библиотека ЦОК https://m.edsoo.ru/7f41c97c
2.3	Оптика	10		3	Библиотека ЦОК https://m.edsoo.ru/7f41c97c
Итого по разделу		24			
Раздел 3.ОСНОВЫ СПЕЦИАЛЬНОЙ ТЕОРИИ ОТНОСИТЕЛЬНОСТИ					
3.1	Основы специальной теории относительности	4	1		Библиотека ЦОК https://m.edsoo.ru/7f41c97c
Итого по разделу		4			
Раздел 4.КВАНТОВАЯ ФИЗИКА					
4.1	Элементы квантовой оптики	6			Библиотека ЦОК https://m.edsoo.ru/7f41c97c
4.2	Строение атома	4			Библиотека ЦОК

					https://Zm.edsoo.ru/7f41c97
4.3	Атомное ядро	5			Библиотека ЦОК https://Zm.edsoo.ru/7f41c97
Итого по разделу		15			
Раздел 5. ЭЛЕМЕНТЫ АСТРОНОМИИ И АСТРОФИЗИКИ					
5.1	Элементы астрономии и астрофизики	7	1		Библиотека ЦОК https://Zm.edsoo.ru/7f41c97
Итого по разделу		7			
Раздел 6. ОБОБЩАЮЩЕЕ ПОВТОРЕНИЕ					
6.1	Обобщающее повторение	4			Библиотека ЦОК https://Zm.edsoo.ru/Z7f41c9
Итого по разделу		4			
Резервное время		3			
ОБЩЕЕ КОЛИЧЕСТВО ЧАСОВ ПО ПРОГРАММЕ		68	4	7	

**ПОУРОЧНОЕ ПЛАНИРОВАНИЕ
10 КЛАСС**

№ п/п	Тема урока	Количество часов			Дата изучения	Электронные цифровые образовательные ресурсы
		Всего	Контрольные работы	Практические работы		
1	Физика — наука о природе. Научные методы познания окружающего мира	1				Библиотека ЦОК https://m.edsoo.ru/ff0c32e2
2	Роль и место физики в формировании современной научной картины мира, в практической деятельности людей	1				Библиотека ЦОК https://m.edsoo.ru/ff0c33e6
3	Входная контрольная работа	1	1			
4	Механическое движение. Относительность механического движения. Перемещение, скорость, ускорение	1				Библиотека ЦОК https://m.edsoo.ru/ff0c3508
5	Равномерное прямолинейное движение	1				Библиотека ЦОК https://m.edsoo.ru/ff0c3620
6	Равноускоренное прямолинейное движение	1				Библиотека ЦОК https://m.edsoo.ru/ff0c372e
7	Свободное падение. Ускорение свободного падения	1				Библиотека ЦОК https://m.edsoo.ru/ff0c39cc
8	Криволинейное движение. Движение материальной точки по окружности	1				Библиотека ЦОК https://m.edsoo.ru/ff0c3ada

9	Принцип относительности Галилея. Инерциальные системы отсчета. Первый закон Ньютона	1				Библиотека ЦОК https://m.edsoo.ru/ff0c3be8
10	Масса тела. Сила. Принцип суперпозиции сил. Второй закон Ньютона для материальной точки	1				Библиотека ЦОК https://m.edsoo.ru/ff0c3be8
11	Третий закон Ньютона для материальных точек	1				Библиотека ЦОК https://m.edsoo.ru/ff0c3be8
12	Закон всемирного тяготения. Сила тяжести. Первая космическая скорость	1				Библиотека ЦОК https://m.edsoo.ru/ff0c3d00
13	Сила упругости. Закон Гука. Вес тела	1				Библиотека ЦОК https://m.edsoo.ru/ff0c3e18
14	Сила трения. Коэффициент трения. Сила сопротивления при движении тела в жидкости или газе	1				Библиотека ЦОК https://m.edsoo.ru/ff0c3f76
15	Поступательное и вращательное движение абсолютно твёрдого тела. Момент силы. Плечо силы. Условия равновесия твёрдого тела	1				Библиотека ЦОК https://m.edsoo.ru/ff0c41a6
16	Импульс материальной точки, системы материальных точек. Импульс силы. Закон сохранения импульса. Реактивное движение	1				Библиотека ЦОК https://m.edsoo.ru/ff0c43d6
17	Работа и мощность силы. Кинетическая энергия материальной точки. Теорема об изменении кинетической энергии	1				Библиотека ЦОК https://m.edsoo.ru/ff0c4502

18	Потенциальная энергия. Потенциальная энергия упруго деформированной пружины. Потенциальная энергия тела вблизи поверхности Земли	1				Библиотека ЦОК https://m.edsoo.ru/ff0c461a
19	Потенциальные и непотенциальные силы. Связь работы непотенциальных сил с изменением механической энергии системы тел. Закон сохранения механической энергии	1				Библиотека ЦОК https://m.edsoo.ru/ff0c478c
20	Лабораторная работа №1 «Исследование связи работы силы с изменением механической энергии тела на примере растяжения резинового жгута»	1		1		
21	Контрольная работа №1 по теме «Кинематика. Динамика. Законы сохранения в механике»	1	1			Библиотека ЦОК https://m.edsoo.ru/ff0c4b74
22	Основные положения молекулярно-кинетической теории. Броуновское движение. Диффузия	1				Библиотека ЦОК https://m.edsoo.ru/ff0c4dc2
23	Характер движения и взаимодействия частиц вещества. Модели строения газов, жидкостей и твёрдых тел	1				
24	Масса молекул. Количество вещества. Постоянная Авогадро	1				
25	Тепловое равновесие. Температура	1				

	и её измерение. Шкала температур Цельсия					
26	Идеальный газ в МКТ. Основное уравнение МКТ	1				Библиотека ЦОК https://m.edsoo.ru/ff0c4fde
27	Абсолютная температура как мера средней кинетической энергии движения молекул. Уравнение Менделеева-Клапейрона	1				Библиотека ЦОК https://m.edsoo.ru/ff0c511e
28	Закон Дальтона. Газовые законы	1				
29	Лабораторная работа №2 «Исследование зависимости между параметрами состояния разреженного газа»	1		1		
30	Изопроцессы в идеальном газе и их графическое представление	1				Библиотека ЦОК https://m.edsoo.ru/ff0c570e
31	Внутренняя энергия термодинамической системы и способы её изменения. Количество теплоты и работа. Внутренняя энергия одноатомного идеального газа	1				Библиотека ЦОК https://m.edsoo.ru/ff0c5952
32	Виды теплопередачи	1				Библиотека ЦОК https://m.edsoo.ru/ff0c5c36
33	Удельная теплоёмкость вещества. Количество теплоты при теплопередаче. Адиабатный процесс	1				Библиотека ЦОК https://m.edsoo.ru/ff0c5c36
34	Контрольная работа за первое	1	1			

	полугодие					
35	Первый закон термодинамики и его применение к изопроцессам	1				Библиотека ЦОК https://m.edsoo.ru/ff0c5efc
36	Необратимость процессов в природе. Второй закон термодинамики	1				Библиотека ЦОК https://m.edsoo.ru/ff0c6230
37	Принцип действия и КПД тепловой машины	1				Библиотека ЦОК https://m.edsoo.ru/ff0c600a
38	Цикл Карно и его КПД	1				
39	Экологические проблемы теплоэнергетики	1				
40	Обобщающий урок «Молекулярная физика. Основы термодинамики»	1				Библиотека ЦОК https://m.edsoo.ru/ff0c6938
41	Контрольная работа №2 по теме «Молекулярная физика. Основы термодинамики»	1	1			Библиотека ЦОК https://m.edsoo.ru/ff0c6a50
42	Парообразование и конденсация. Испарение и кипение	1				Библиотека ЦОК https://m.edsoo.ru/ff0c63b6
43	Абсолютная и относительная влажность воздуха. Насыщенный пар	1				Библиотека ЦОК https://m.edsoo.ru/ff0c64d8
44	Твёрдое тело. Кристаллические и аморфные тела. Анизотропия свойств кристаллов. Жидкие кристаллы. Современные материалы	1				Библиотека ЦОК https://m.edsoo.ru/ff0c65f0
45	Плавление и кристаллизация. Удельная теплота плавления.	1				Библиотека ЦОК https://m.edsoo.ru/ff0c6708

	Сублимация					
46	Уравнение теплового баланса	1				Библиотека ЦОК https://m.edsoo.ru/ff0c6820
47	Электризация тел. Электрический заряд. Два вида электрических зарядов	1				Библиотека ЦОК https://m.edsoo.ru/ff0c6bcc
48	Проводники, диэлектрики и полупроводники. Закон сохранения электрического заряда	1				Библиотека ЦОК https://m.edsoo.ru/ff0c6bcc
49	Взаимодействие зарядов. Закон Кулона. Точечный электрический заряд	1				Библиотека ЦОК https://m.edsoo.ru/ff0c6ce4
50	Напряжённость электрического поля. Принцип суперпозиции электрических полей. Линии напряжённости	1				Библиотека ЦОК https://m.edsoo.ru/ff0c6df2
51	Работа сил электростатического поля. Потенциал. Разность потенциалов	1				Библиотека ЦОК https://m.edsoo.ru/ff0c6f00
52	Проводники и диэлектрики в электростатическом поле. Диэлектрическая проницаемость	1				Библиотека ЦОК https://m.edsoo.ru/ff0c7018
53	Емкость. Конденсатор	1				Библиотека ЦОК https://m.edsoo.ru/ff0c7126
54	Емкость плоского конденсатора. Энергия заряженного конденсатора	1				Библиотека ЦОК https://m.edsoo.ru/ff0c72c0
55	Лабораторная работа	1		1		

	№3"Измерение электроёмкости конденсатора"					
56	Принцип действия и применение конденсаторов, копировального аппарата, струйного принтера. Электростатическая защита. Заземление электроприборов	1				
57	Электрический ток, условия его существования. Постоянный ток. Сила тока. Напряжение. Сопротивление. Закон Ома для участка цепи	1				
58	Последовательное, параллельное, смешанное соединение проводников. Лабораторная работа «Изучение смешанного соединения резисторов»	1				Библиотека ЦОК https://m.edsoo.ru/ff0c74f0
59	Работа и мощность электрического тока. Закон Джоуля-Ленца	1				Библиотека ЦОК https://m.edsoo.ru/ff0c7838
60	Закон Ома для полной (замкнутой) электрической цепи. Короткое замыкание. Лабораторная работа «Измерение ЭДС источника тока и его внутреннего сопротивления»	1				Библиотека ЦОК https://m.edsoo.ru/ff0c7ae0
61	Электронная проводимость твёрдых металлов. Зависимость сопротивления металлов от температуры. Сверхпроводимость	1				
62	Электрический ток в вакууме.	1				

	Свойства электронных пучков					
63	Полупроводники, их собственная и примесная проводимость. Свойства р—n-перехода. Полупроводниковые приборы	1				Библиотека ЦОК https://m.edsoo.ru/ff0c84ae
64	Электрический ток в растворах и расплавах электролитов. Электролитическая диссоциация. Электролиз	1				Библиотека ЦОК https://m.edsoo.ru/ff0c82ba
65	Электрический ток в газах. Самостоятельный и несамостоятельный разряд. Молния. Плазма	1				Библиотека ЦОК https://m.edsoo.ru/ff0c84ae
66	Электрические приборы и устройства и их практическое применение. Правила техники безопасности	1				Библиотека ЦОК https://m.edsoo.ru/ff0c86fc
67	Контрольная работа № 3 по теме «Электростатика. Постоянный электрический ток. Токи в различных средах»	1	1			Библиотека ЦОК https://m.edsoo.ru/ff0c88be
68	Промежуточная аттестация	1	1			Библиотека ЦОК https://m.edsoo.ru/ff0c8a8a
ОБЩЕЕ КОЛИЧЕСТВО ЧАСОВ ПО ПРОГРАММЕ		68	6	3		

11 КЛАСС

№ п/п	Тема урока	Количество часов			Дата изучения	Электронные цифровые образовательные ресурсы
		Всего	Контрольные работы	Практические работы		
1	Постоянные магниты и их взаимодействие. Магнитное поле. Вектор магнитной индукции. Линии магнитной индукции	1				Библиотека ЦОК https://m.edsoo.ru/ff0c9778
2	Магнитное поле проводника с током. Опыт Эрстеда. Взаимодействие проводников с током	1				Библиотека ЦОК https://m.edsoo.ru/ff0c98fe
3	Входная контрольная работа	1	1			
4	Лабораторная работа № 1 «Изучение магнитного поля катушки с током»	1		1		Библиотека ЦОК https://m.edsoo.ru/ff0c98fe
5	Действие магнитного поля на проводник с током. Сила Ампера. Лабораторная работа №2 «Исследование действия постоянного магнита на рамку с током»	1		1		Библиотека ЦОК https://m.edsoo.ru/ff0c9ac0
6	Действие магнитного поля на движущуюся заряженную частицу. Сила Лоренца. Работа силы Лоренца	1				Библиотека ЦОК https://m.edsoo.ru/ff0c9df4
7	Электромагнитная индукция. Поток	1				

	вектора магнитной индукции. ЭДС индукции. Закон электромагнитной индукции Фарадея					
8	Лабораторная работа №3 «Исследование явления электромагнитной индукции»	1		1		Библиотека ЦОК https://m.edsoo.ru/ff0ca150
9	Индуктивность. Явление самоиндукции. ЭДС самоиндукции. Энергия магнитного поля катушки с током. Электромагнитное поле	1				Библиотека ЦОК https://m.edsoo.ru/ff0ca600
10	Технические устройства и их применение: постоянные магниты, электромагниты, электродвигатель, ускорители элементарных частиц, индукционная печь	1				
11	Обобщающий урок «Магнитное поле. Электромагнитная индукция»	1				Библиотека ЦОК https://m.edsoo.ru/ff0cab82
12	Контрольная работа №1 по теме «Магнитное поле. Электромагнитная индукция»	1	1			Библиотека ЦОК https://m.edsoo.ru/ff0cad58
13	Свободные механические колебания. Гармонические колебания. Уравнение гармонических колебаний. Превращение энергии	1				Библиотека ЦОК https://m.edsoo.ru/ff0caf06
14	Лабораторная работа «Исследование зависимости периода малых колебаний груза на нити от длины нити и массы груза»	1		1		

15	Колебательный контур. Свободные электромагнитные колебания в идеальном колебательном контуре. Аналогия между механическими и электромагнитными колебаниями	1				Библиотека ЦОК https://m.edsoo.ru/ff0cb820
16	Формула Томсона. Закон сохранения энергии в идеальном колебательном контуре	1				Библиотека ЦОК https://m.edsoo.ru/ff0cb9c4
17	Представление о затухающих колебаниях. Вынужденные механические колебания. Резонанс. Вынужденные электромагнитные колебания	1				Библиотека ЦОК https://m.edsoo.ru/ff0cbb86
18	Переменный ток. Синусоидальный переменный ток. Мощность переменного тока. Амплитудное и действующее значение силы тока и напряжения	1				Библиотека ЦОК https://m.edsoo.ru/ff0cbd34
19	Трансформатор. Производство, передача и потребление электрической энергии	1				
20	Устройство и практическое применение электрического звонка, генератора переменного тока, линий электропередач	1				Библиотека ЦОК https://m.edsoo.ru/ff0cc324
21	Экологические риски при производстве электроэнергии. Культура использования электроэнергии в повседневной	1				

	жизни					
22	Механические волны, условия распространения. Период. Скорость распространения и длина волны. Поперечные и продольные волны	1				Библиотека ЦОК https://m.edsoo.ru/ff0cca54
23	Звук. Скорость звука. Громкость звука. Высота тона. Тембр звука	1				Библиотека ЦОК https://m.edsoo.ru/ff0ccc0c
24	Электромагнитные волны, их свойства и скорость. Шкала электромагнитных волн	1				Библиотека ЦОК https://m.edsoo.ru/ff0ccfe0
25	Принципы радиосвязи и телевидения. Развитие средств связи. Радиолокация	1				
26	Контрольная работа №2 «Колебания и волны»	1	1			Библиотека ЦОК https://m.edsoo.ru/ff0cc6f8
27	Прямолинейное распространение света в однородной среде. Точечный источник света. Луч света	1				Библиотека ЦОК https://m.edsoo.ru/ff0cd350
28	Отражение света. Законы отражения света. Построение изображений в плоском зеркале	1				Библиотека ЦОК https://m.edsoo.ru/ff0cd4e0
29	Преломление света. Полное внутреннее отражение. Предельный угол полного внутреннего отражения	1				Библиотека ЦОК https://m.edsoo.ru/ff0cd7f6
30	Лабораторная работа «Измерение показателя преломления стекла»	1		1		Библиотека ЦОК https://m.edsoo.ru/ff0cd67a
31	Линзы. Построение изображений в	1				Библиотека ЦОК

	линзе. Формула тонкой линзы. Увеличение линзы					https://m.edsoo.ru/ff0cdd1e
32	Лабораторная работа «Исследование свойств изображений в линзах»	1		1		
33	Дисперсия света. Сложный состав белого света. Цвет. Лабораторная работа «Наблюдение дисперсии света»	1		1		
34	Контрольная работа за первое полугодие	1	1			
35	Интерференция света. Дифракция света. Дифракционная решётка	1				Библиотека ЦОК https://m.edsoo.ru/ff0ced22
36	Поперечность световых волн. Поляризация света	1				Библиотека ЦОК https://m.edsoo.ru/ff0cfc02e
37	Оптические приборы и устройства и условия их безопасного применения	1				
38	Границы применимости классической механики. Постулаты специальной теории относительности	1				Библиотека ЦОК https://m.edsoo.ru/ffDcf862
39	Относительность одновременности. Замедление времени и сокращение длины	1				Библиотека ЦОК https://m.edsoo.ru/ff0cfa42
40	Энергия и импульс релятивистской частицы. Связь массы с энергией и импульсом. Энергия покоя	1				Библиотека ЦОК https://m.edsoo.ru/ff0cfc68
41	Контрольная работа №3 «Оптика.	1	1			Библиотека ЦОК

	Основы специальной теории относительности»				https://m.edsoo.ru/ff0cf6f0
42	Фотоны. Формула Планка. Энергия и импульс фотона	1			Библиотека ЦОК https://m.edsoo.ru/ff0cfe16
43	Открытие и исследование фотоэффекта. Опыты А. Г. Столетова	1			Библиотека ЦОК https://m.edsoo.ru/ff0cffc4
44	Законы фотоэффекта. Уравнение Эйнштейна для фотоэффекта. «Красная граница» фотоэффекта	1			Библиотека ЦОК https://m.edsoo.ru/ff0d015e
45	Давление света. Опыты П. Н. Лебедева. Химическое действие света	1			Библиотека ЦОК https://m.edsoo.ru/ff0d04a6
46	Технические устройства и практическое применение: фотоэлемент, фотодатчик, солнечная батарея, светодиод	1			
47	Решение задач по теме «Элементы квантовой оптики»	1			Библиотека ЦОК https://m.edsoo.ru/ff0d0302
48	Модель атома Томсона. Опыты Резерфорда по рассеянию α -частиц. Планетарная модель атома	1			Библиотека ЦОК https://m.edsoo.ru/ff0d091a
49	Постулаты Бора	1			Библиотека ЦОК https://m.edsoo.ru/ff0d0afa
50	Излучение и поглощение фотонов при переходе атома с одного уровня энергии на другой. Виды спектров	1			Библиотека ЦОК https://m.edsoo.ru/ff0d0afa
51	Волновые свойства частиц. Волны	1			Библиотека ЦОК

	де Бройля. Корпускулярно-волновой дуализм. Спонтанное и вынужденное излучение					https://m.edsoo.ru/ff0d0ca8
52	Открытие радиоактивности. Опыты Резерфорда по определению состава радиоактивного излучения	1				Библиотека ЦОК https://m.edsoo.ru/ff0d0fd2
53	Свойства альфа-, бета-, гамма-излучения. Влияние радиоактивности на живые организмы	1				
54	Открытие протона и нейтрона. Изотопы. Альфа-распад. Электронный и позитронный бета-распад. Гамма-излучение	1				Библиотека ЦОК https://m.edsoo.ru/ff0d1162
55	Энергия связи нуклонов в ядре. Ядерные реакции. Ядерный реактор. Проблемы, перспективы, экологические аспекты ядерной энергетики	1				Библиотека ЦОК https://m.edsoo.ru/ff0d1356
56	Элементарные частицы. Открытие позитрона. Методы наблюдения и регистрации элементарных частиц. Круглый стол «Фундаментальные взаимодействия. Единство физической картины мира»	1				Библиотека ЦОК https://m.edsoo.ru/ff0d0e38
57	Вид звёздного неба. Созвездия, яркие звёзды, планеты, их видимое движение. Солнечная система	1				
58	Солнце. Солнечная активность.	1				

	Источник энергии Солнца и звёзд					
59	Звёзды, их основные характеристики. Звёзды главной последовательности. Внутреннее строение звёзд. Современные представления о происхождении и эволюции Солнца и звёзд	1				
60	Млечный Путь — наша Галактика. Положение и движение Солнца в Галактике. Галактики. Чёрные дыры в ядрах галактик	1				
61	Вселенная. Разбегание галактик. Теория Большого взрыва. Реликтовое излучение. Метагалактика	1				
62	Нерешенные проблемы астрономии	1				
63	Контрольная работа №4 «Элементы астрономии и астрофизики»	1	1			
64	Обобщающий урок. Роль физики и астрономии в экономической, технологической, социальной и этической сферах деятельности человека	1				
65	Обобщающий урок. Роль и место физики и астрономии в современной научной картине мира	1				
66	Обобщающий урок. Роль физической теории в формировании	1				

	представлений о физической картине мира					
67	Обобщающий урок. Место физической картины мира в общем ряду современных естественно-научных представлений о природе	1				
68	Промежуточная аттестация ВПР	1	1			Библиотека ЦОК https://m.edsoo.ru/ff0d1784
ОБЩЕЕ КОЛИЧЕСТВО ЧАСОВ ПО ПРОГРАММЕ		68	7	7		

УЧЕБНО-МЕТОДИЧЕСКОЕ ОБЕСПЕЧЕНИЕ ОБРАЗОВАТЕЛЬНОГО ПРОЦЕССА ОБЯЗАТЕЛЬНЫЕ
УЧЕБНЫЕ МАТЕРИАЛЫ ДЛЯ УЧЕНИКА

- Физика, 10 класс/ Касьянов В.А., Общество с ограниченной ответственностью «ДРОФА»;
Акционерное общество «Издательство «Просвещение»
- Физика, 11 класс/ Касьянов В.А., Общество с ограниченной ответственностью «ДРОФА»;
Акционерное общество «Издательство «Просвещение»

МЕТОДИЧЕСКИЕ МАТЕРИАЛЫ ДЛЯ УЧИТЕЛЯ

Программа курса физики для 10—11 классов. Базовый уровень (автор В. А. Касьянов) УМК
«Физика. 10 класс. Базовый уровень»

1. Физика. 10 класс. Базовый уровень. Учебник с электронным приложением (автор В. А. Касьянов).
2. Физика. 10 класс. Базовый уровень. Методическое пособие (автор В. А. Касьянов).
3. Физика. 10—11 классы. Базовый уровень. Тетрадь для лабораторных работ (авторы В. А. Касьянов, В. А. Коровин).
4. Физика. 10—11 классы. Базовый уровень. Комплект тетрадей для контрольных работ (автор В. А. Касьянов)
5. Физика. 10 класс. Дидактические карточки-задания (авторы М. А. Ушаков, К. М. Ушаков). УМК «Физика. 11 класс. Базовый уровень»
 1. Физика. 11 класс. Базовый уровень. Учебник с электронным приложением (автор В. А. Касьянов).
 2. Физика. 11 класс. Базовый уровень. Методическое пособие (автор В. А. Касьянов).
 3. Физика. 10—11 классы. Базовый уровень. Тетрадь для лабораторных работ (авторы В. А. Касьянов, В. А. Коровин).
 4. Физика. 10—11 классы. Базовый уровень. Комплект тетрадей для контрольных работ (авторы В. А. Касьянов, И. В. Игряшов).
 5. Физика. 11 класс. Дидактические карточки-задания (авторы М. А. Ушаков, К. М. Ушаков).

ЦИФРОВЫЕ ОБРАЗОВАТЕЛЬНЫЕ РЕСУРСЫ И РЕСУРСЫ СЕТИ ИНТЕРНЕТ

- 1 <http://nsportal.ru> - социальная сеть работников образования.
- 2 <http://markx.narod.ru/pic/> - физика в школе.
- 3 <http://festival.1september.ru/articles/> - фестиваль педагогических идей «Открытый урок».
- 4 <http://www.fizika.ru/> - сайт для учителей физики и их учеников.
- 5 <http://www.physics.ru/> - материалы по физике.
- 6 [www . ege .edu.ru](http://www.ege.edu.ru) - информационный портал ЕГЭ.
- 7 [http :// school - collection . edu . ru /](http://school-collection.edu.ru/) - единая коллекция ЦОРов

Оценочные материалы

10 класс

№ урока	Контрольные работы	Кол- во часов	По плану
1.	Входная контрольная работа	1	1 полугодие
2.	Контрольная работа № 1 по теме «Кинематика. Динамика. Законы сохранения в механике»	1	1 полугодие
3.	Полугодовая контрольная работа	1	1 полугодие
4.	Контрольная работа №2 по теме «Молекулярная физика. Основы термодинамики»	1	1 полугодие
5.	Контрольная работа № 3 по теме «Электростатика. Постоянный электрический ток. Токи в различных средах»	1	2 полугодие
6.	Промежуточная аттестация	1	2 полугодие

11 класс

№ урока	Контрольные работы	Кол- во часов	По плану
1.	Входная контрольная работа	1	1 полугодие
2.	Контрольная работа №1 по теме «Магнитное поле. Электромагнитная индукция»	1	1 полугодие
3.	Полугодовая контрольная работа	1	1 полугодие
4.	Контрольная работа №2 «Колебания и волны»	1	2 полугодие
5.	Контрольная работа №3 «Оптика. Основы специальной теории относительности»	1	2 полугодие
6.	Контрольная работа №4 «Элементы астрономии и астрофизики»	1	2 полугодие
7.	Промежуточная аттестация	1	2 полугодие

Демонстрация входной контрольной работы

Часть 1

К каждому из заданий 1 - 5 даны 4 варианта ответа, из которых только один правильный.

1 Автомобиль на прямолинейной дороге начинает разгоняться с ускорением $0,5 \text{ м/с}^2$ из состояния покоя и через некоторый промежуток времени достигает скорости 5 м/с . Чему равен этот промежуток времени?

- 1) $0,1 \text{ с}$ 2) 1 с 3) $2,5 \text{ с}$ 4) 10 с

2 Имеются две абсолютно упругие пружины. К первой пружине приложена сила 6 Н , а ко второй - 3 Н . Сравните жесткость k_1 первой пружины с жесткостью k_2 второй пружины при их одинаковом удлинении.

- 1) $k_1 = k_2$ 2) $k_1 = 2k_2$ 3) $2k_1 = k_2$ 4) $k_1 = k_2$

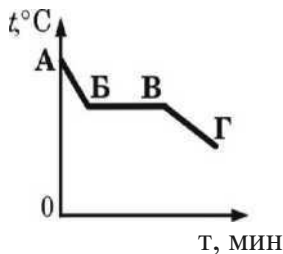
3 Два тела находятся на одной и той же высоте над поверхностью Земли. Масса одного тела m_1 в два раза больше массы другого тела m_2 . Относительно поверхности Земли потенциальная энергия

- 1) первого тела в 2 раза больше потенциальной энергии второго тела
- 2) второго тела в 2 раза больше потенциальной энергии первого тела
- 3) первого тела в 4 раза больше потенциальной энергии второго тела
- 4) второго тела в 4 раза больше потенциальной энергии первого тела

4 Автомобиль массой 1 т, движущийся со скоростью 20 м/с, начинает тормозить и через некоторое время останавливается. Чему равна общая сила сопротивления движению, если до полной остановки автомобиль проходит путь 50 м?

- 1) 400 Н 2) 500 Н 3) 4000 Н 4) 8000 Н

5 На рисунке приведен график зависимости температуры спирта от времени. Первоначально спирт находился в газообразном состоянии. Какая точка графика соответствует началу процесса конденсации спирта?



- 1) А 2) Б 3) В 4) Г

Часть 2

При выполнении заданий ответ надо записать в виде числа в указанных единицах. Единицы физических величин писать не нужно.

В1 В сосуд с холодной водой опустили стальное сверло массой 1 кг, нагретое до температуры 200 °С. В сосуде установилась температура 50 °С. Какое количество теплоты получила вода на нагревание? Потерями энергии на нагревание сосуда и окружающего воздуха пренебречь. Удельная теплоемкость стали 460 Дж/(кг·°С). Ответ дать в килоджоулях.

В2 Тележка массой 20 кг, движущаяся со скоростью 0,3 м/с, нагоняет другую тележку массой 30 кг, движущуюся в ту же сторону со скоростью 0,2 м/с, и сцепляется с ней. Чему равна скорость движения тележек после сцепки? Ответ дать в м/с.

Часть 3

На задание части 3 следует дать развернутый ответ

С1 Две спирали электроплитки одинакового сопротивления соединены параллельно и включены в сеть с напряжением 220 В. Чему равно сопротивление одной спирали плитки, если вода массой 2 кг, налитая в алюминиевую кастрюлю массой 200 г, закипела через 37 с? Начальная температура воды и кастрюли составляла 20 °С. Потерями энергии на нагревание окружающего воздуха пренебречь. Удельная теплоемкость воды 4200 Дж/(кг·°С), алюминия 900 Дж/(кг·°С).

С2 Две спирали электроплитки сопротивлением по 10 Ом каждая соединены параллельно и включены в сеть с напряжением 220 В. Вода массой 1 кг, налитая в алюминиевую кастрюлю

массой 300 г, закипела через 37 с. Чему равна начальная температура воды и кастрюли? Потерями энергии на нагревание окружающего воздуха пренебречь. Удельная теплоемкость воды 4200 Дж/(кг·°С), алюминия 900 Дж/(кг·°С).

Контрольная работа № 1 по теме «Кинематика. Динамика. Законы сохранения в механике»

A1. Какое тело, из перечисленных ниже, оставляет видимую траекторию?

- 1) Камень, падающий в горах
- 2) Мяч во время игры
- 3) Лыжник, прокладывающий новую трассу
- 4) Легкоатлет, совершающий прыжок в высоту

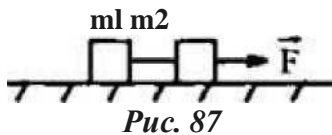
A2. Материальная точка, двигаясь прямолинейно, переместилась из точки с координатами (-2; 3) в точку с координатами (1; 7). Определите проекции вектора перемещения на оси координат.

- 1) 3 м; 4 м
- 2) -3 м; 4 м
- 3) 3 м; -4 м
- 4) -3 м; -4 м

A3. Масса космонавта 60 кг. Какова его масса на Луне, где гравитационное притяжение тел в шесть раз слабее, чем на Земле?

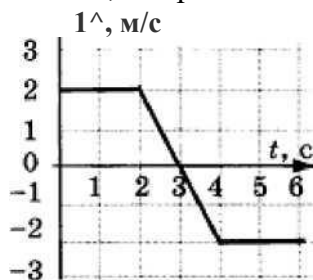
- А. 10 кг.
- Б. 54 кг.
- В. 60 кг.
- Г. 66 кг.
- Д. 360 кг

A4. 4. Два бруска, связанные невесомой нерастяжимой нить, тянут с силой $F = 2$ Н вправо по столу. Массы брусков $m_1 = 0,2$ кг и $m_2 = 0,3$ кг. Коэффициент трения скольжения бруска по столу $\mu = 0,2$. С каким ускорением сдвинутся бруски (рис. 87)?



- А. 1 м/с^2 ;
- Б. 2 м/с^2 ;
- В. 3 м/с^2 ;
- Г. 4 м/с^2 ;
- Д. 5 м/с^2

А5. На графике изображена зависимость проекции скорости тела, движущегося вдоль оси Ox , от времени.



Какое перемещение совершило тело к моменту времени $t = 5 \text{ с}$?

- 1) 2 м
- 2) 6 м
- 3) 8 м
- 4) 10 м

81. Вагон шириной 2,4 м, движущийся со скоростью 15 м/с, был пробит пулей, летевшей перпендикулярно к направлению движения вагона. Смещение отверстий в стенах вагона относительно друг друга 6 см. Найдите скорость пули.

82. Поставьте в соответствие физическую величину и единицу её измерения в СИ. К каждой позиции первого столбца подберите соответствующую позицию второго и запишите в таблицу выбранные цифры под соответствующими буквами.

ФИЗИЧЕСКАЯ ВЕЛИЧИНА	ЕДИНИЦА ИЗМЕРЕНИЯ
А) сила	1) $\text{кПм}^2/\text{с}^2$ 2) $\text{кг}^{\wedge}\text{м}/\text{с}^2$ 3) $\text{кг}/\text{м}^3$ 4) $\text{м}/\text{с}^2$
Б) ускорение	

А	Б
---	---

83. На пути 60 м скорость тела уменьшилась в три раза за 20 с. Определите скорость тела в конце пути, считая ускорение постоянным.

84. Охотник стреляет в птицу, летящую на расстоянии 36 м от него со скоростью 15 м/с в направлении перпендикулярном линии прицеливания. Какой путь пролетит птица от момента выстрела до попадания в нее дроби, если скорость дроби при вылете из ружья 400 м/с?

С1. В течение 20 с ракета поднимается с постоянным ускорением 8 м/с^2 , после чего двигатели ракеты выключаются. На какой максимальной высоте побывала ракета?

С2. Стальной кубик вкатывают с начальной скоростью 4 м/с на ледяную прямолинейную горку, наклонённую к горизонту под углом 45° . Коэффициент трения скольжения кубика о лёд $0,05$. На какую максимальную высоту поднимется брусок?

Демонстрация полугодовой контрольной работы

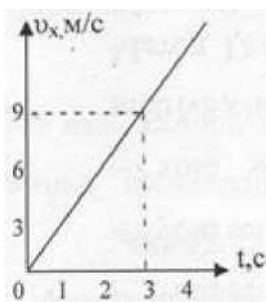
Часть 1.

1. В течение 10 с поезд двигался равномерно со скоростью 15 м/с. Какой путь прошел поезд за это время?

а) 1,5 м б) 150 м в) 0,5 км г) 45 м

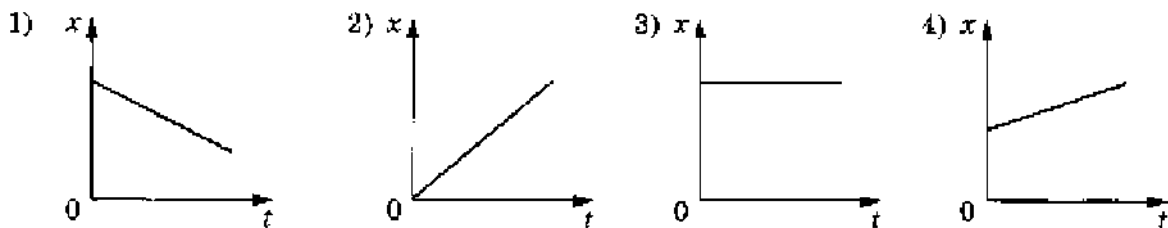
2. На рисунке 1 представлен график зависимости скорости грузовика от времени.

Ускорение грузовика в момент $t = 3 \text{ с}$ равно



1) 2 м/с^2 2) 12 м/с^2 3) 5 м/с^2 4) 3 м/с^2

На рисунке приведены графики зависимости координаты тела от времени. Какой из графиков



3.

Ответ:

4. При свободном падении с крыши дома целого кирпича он долетает до земли за 3 с. Сколько времени будет длиться падение с той же крыши половинки кирпича?

а) 6 с б) $2^{\wedge}3 \text{ с}$ в) 3 с г) 1 с

соответствует равному по модулю движению тела в отрицательном направлении оси Ox

5. Система отсчёта связана с воздушным шаром. Эту систему можно считать

инерциальной в случае, когда шар движется

- 1) равномерно вниз 2) ускоренно вверх 3) замедленно вниз 4) замедленно вверх
6. Какова масса тела, которое под влиянием силы 0,05 Н получает ускорение 10 см/с^2 ?
1) 1 кг 2) 2 кг 3) 0,7 кг 4) 0,5 кг
7. Человек массой 50 кг, стоя на коньках. Отталкивает от себя шар массой 2 кг с силой 20 Н. Какое ускорение получает при этом человек?
1) $0,2 \text{ м/с}^2$ 2) $0,4 \text{ м/с}^2$ 3) $0,8 \text{ м/с}^2$ 4) 10 м/с^2
8. На расстоянии R от центра Земли на тело действует сила тяжести F. Чему равна сила тяжести, действующая на расстоянии 2R от центра Земли?
а) 2F б) F/3 в) F/4 г) 4/F
9. Какова кинетическая энергия тела массой 1 т, движущегося со скоростью 36 км/ч?
1) 50 кДж 2) 36 кДж 3) 72 кДж 4) 25 кДж

Часть 2.

I. Установите соответствие между физическими законами и математическими формулами, которыми они записываются.

физические законы	формулы
А) II закон Ньютона	1) $F = ma$
В) Закон Гука	2) $M = Fl$
С) III закон Ньютона	3) $F_{упр} = - kx$
	4) $F_1 = - F_2$

К каждой позиции первого столбца подберите соответствующую позицию второго и запишите в таблицу выбранные цифры под соответствующими буквами.

II. Снаряд массой 100 кг, летящий горизонтально вдоль железнодорожного пути со скоростью 500 м/с, попадает в платформу с песком массой 10 т и застревает в нём. Какую скорость получит вагон, если он двигался со скоростью 36 км/ч в направлении, противоположном движению снаряда.

Контрольная работа №2 по теме «Молекулярная физика. Основы термодинамики»

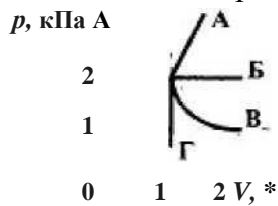
- A1.** «Расстояние между соседними частицами вещества мало (они практически соприкасаются)». Это утверждение соответствует модели 1) только твердых тел 2) только жидкостей
3) твердых тел и жидкостей
4) газов, жидкостей и твердых тел

A2. При неизменной концентрации частиц идеального газа средняя кинетическая энергия теплового движения его молекул увеличилась в 3 раза. При этом давление газа 1) уменьшилось в 3 раза 2) увеличилось в 3 раза 3) увеличилось в 9 раз 4) не изменилось

A3. Чему равна средняя кинетическая энергия хаотического поступательного движения молекул идеального газа при температуре 27 °С?

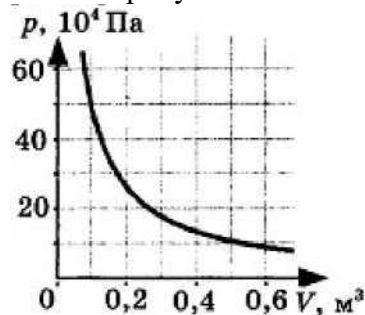
- 1) $6,2 \cdot 10^{-21}$ Дж
- 2) $4,1 \cdot 10^{-21}$ Дж
- 3) $2,8 \cdot 10^{-21}$ Дж
- 4) $0,6 \cdot 10^{-21}$ Дж

A4. Какой из графиков, изображенных на рисунке, соответствует процессу, проведенному при постоянной температуре газа?



- 1) А
- 2) Б
- 3) В
- 4) Г

81. На рисунке показан график изменения давления идеального газа при его расширении.



Какое количество газообразного вещества (в молях) содержится в этом сосуде, если температура газа равна 300 К? Ответ округлите до целого числа.

82. В сосуде неизменного объема находилась при комнатной температуре смесь двух идеальных газов, по 2 моль каждого. Половину содержимого сосуда выпустили, а затем добавили в сосуд 2 моль первого газа. Как изменились в результате парциальные давления газов и их суммарное давление, если температура газов в сосуде поддерживалась постоянной? К каждой позиции первого столбца подберите нужную позицию второго.

Физические величины	Их изменение
А) парциальное давление первого газа Б) парциальное давление второго газа В) давление газа в сосуде	1) увеличилось 2) уменьшилось 3) не изменилось

С1. Поршень площадью 10 см^2 массой 5 кг может без трения перемещаться в вертикальном цилиндрическом сосуде, обеспечивая при этом его герметичность. Сосуд с поршнем, заполненный газом, покоится на полу неподвижного лифта при атмосферном давлении 100 кПа , при этом расстояние от нижнего края поршня до дна сосуда 20 см . Каким станет это расстояние, когда лифт поедет вниз с ускорением равным 3 м/с^2 ? Изменение температуры газа не учитывать.

С2. Поршень площадью 10 см^2 может без трения перемещаться в вертикальном цилиндрическом сосуде, обеспечивая при этом его герметичность. Сосуд с поршнем, заполненный газом, покоится на полу неподвижного лифта при атмосферном давлении 100 кПа , при этом расстояние от нижнего края поршня до дна сосуда 20 см . Когда лифт поедет вверх с ускорением равным 4 м/с^2 , поршень сместится на $2,5 \text{ см}$. Какова масса поршня, если изменение температуры можно не учитывать?

Контрольная работа № 3 по теме «Электростатика. Постоянный электрический ток. Токи в различных средах»

А1. Для каждого определения (формулировки) из столбца 1 укажите его название из столбца 2.

Столбец 1	Столбец 2
1. Алгебраическая сумма электрических зарядов в замкнутой системе остается постоянной.	А. Напряженность. Б. Закон сохранения заряда.
2. Величина, равная отношению силы, действующей на заряд к величине этого заряда - это...	В. Закон Кулона. Г. Потенциал.
3. Прибор, служащий для накопления эл. заряда, эл. энергии - это.	Д. Конденсатор.

А2. Для каждой физической величины из столбца 1 укажите единицу ее измерения из столбца 2.

Столбец 1	Столбец 2
1. Электрический заряд.	А. Дж.
2. Напряженность электрического поля.	Б. Кл.
3. Энергия электрического поля.	В. В. Г. Н/Кл.

А3. Цинковая пластина, имевшая отрицательный заряд -10 е , при освещении потеряла четыре электрона. Каким стал заряд пластины?

А. 6 е. Б. -6 е. В. 14 е. Г. -14 е.

A4. Как изменится сила кулоновского взаимодействия двух точечных зарядов, если расстояние между ними увеличить в 2 раза?

А. Увеличится в 4 раза. Б. Уменьшится в 4 раза. В. Уменьшится в 2 раза. Г. Не изменится.

A5. Как изменится емкость воздушного конденсатора при уменьшении расстояния между пластинами в 2 раза?

А. Уменьшится в 2 раза. Б. Увеличится в 2 раза. В. Увеличится в 4 раза.

81. Электрические заряды не действуют друг на друга непосредственно, каждый из них создает в окружающем пространстве...

82. Однородное электрическое поле действует на заряд $q = 5$ мКл с силой 500 Н. Чему равна напряженность этого поля?

C1. Наибольшая емкость школьного конденсатора 58 мкФ. Какой заряд он накопит при его подключении к полюсам источника постоянного напряжения 50 В? Найти энергию заряженного конденсатора.

C2. Пылинка, имеющая массу 10^{-6} кг, влетела в однородное электрическое поле вдоль его силовых линий с начальной скоростью 0,1 м/с и переместилась на расстояние 4 см. Чему равен заряд пылинки, если её скорость увеличилась на 0,2 м/с при напряженности поля 10^5 В/м? Ответ выразите пКл.

Демоверсия Контрольная работа (итоговая)

Часть 1.

83. При выполнении заданий части А, обведите один из 4-х данных ответов)

A1. Автомобиль трогается с места с ускорением $0,5$ м/с². Какова скорость автомобиля через 0,5 минуты?

А. $V=0,25$ м/с; В. $V=2,5$ м/с; С. $V=15$ м/с; Д. $V=25$ м/с.

A2. Эскалатор движется вниз. Вверх по эскалатору бежит человек со скоростью 1,4 м/с относительно эскалатора. Скорость человека относительно земли 0,8 м/с. Какова скорость эскалатора?

А. 2,2 м/с; В. 0,6 м/с; С. 0 м/с; Д. 0,4 м/с

A3. Уравнение движения тела: $x = 100 + 2t + t^2$. Масса тела 500 г. Какова величина силы, действующая на тело?

А. 500 Н; В. 0,5 Н; С. 1 Н; Д. 2 Н.

A4. По горизонтальной плоскости равномерно движется брусок массой m . Чему равен модуль силы трения, действующей на брусок?

А) μmg ; Б) mg ; В) 0; Г) $\mu mg \cos \alpha$.

A5. Тело массой m поднято над поверхностью земли на высоту h . Какова потенциальная энергия

тела? А) mg ; Б) mgh ; В) mh ; Г) $\frac{mg}{2}$.

A6. Тело массой 5 кг спускается равномерно на 5 м за время 5 секунд. Какова мощность, развиваемая силой тяжести?

А) 250 Вт; Б) 25 Вт; В) 50 Вт; Г) 125 Вт.

A7. При возрастании температуры газа от 0 до $+200^\circ\text{C}$ средняя квадратичная скорость теплового движения молекул возрастает примерно в

1) 1,32 раза; 2) 1,73 раза; 3) 3 раза; 4) 9 раз.

A8. При постоянной температуре объём данной массы газа возрос в 4 раза. Давление газа при этом

1) увеличилось в 2 раза; 2) увеличилось в 4 раза;

3) уменьшилось в 2 раза; 4) уменьшилось в 4 раза.

A9. Как изменится давление идеального газа при переходе из состояния 1 в состояние 2 (см. Рис.2)?

А.) не изменится; Б.) увеличится; В.) уменьшится; Г.) не знаю. **A10.** Между двумя заряженными телами сила электрического взаимодействия равна 12 мН. Если заряд одного тела увеличить в 2 раза, а заряд другого тела уменьшить в 3 раза и расстояние между телами уменьшить в 2 раза, то сила взаимодействия между телами станет равна 1) 32 мН; 2) 16 мН; 3) 8 мН; 4) 4 мН.

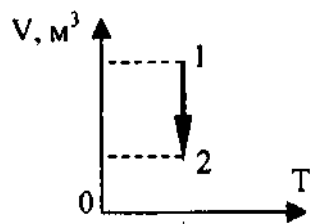


Рис. 2

A11. При уменьшении расстояния между обкладками конденсатора в 2 раза, его емкость...

а) увеличится в 4 раза; б) увеличится в 2 раза; в) уменьшится в 2 раза; г) уменьшится в 4 раза

A12. При электролизе медного купороса в течение 1 часа выделяется 20 г меди. Валентность меди - 2, относительная молекулярная масса - 64. Сила тока в электролитической ванне равна .

А) 16,8 А. Б) 0,016 А. В) 60 кА. Г) Нет правильного ответа.

Часть В (решите задачу и запишите ответ)

81. Тележка массой 2 кг, движущаяся со скоростью 3 м/с, сталкивается с неподвижной тележкой массой 4 кг и сцепляется с ней. Чему будет равна скорость обеих тележек после взаимодействия?

Ответ: _____

82. В автомобильной шине находится воздух под давлением $5,9 \cdot 10^5$ Па при температуре 20°C . Во время движения автомобиля температура воздуха повышается до 35°C . На сколько увеличивается

давление воздуха внутри шины? Объем считать постоянным.

Ответ: _____

83. Брусок соскальзывает вниз по наклонной плоскости с углом наклона плоскости к горизонту 30° . Коэффициент трения бруска о наклонную плоскость $0,3$. С каким ускорением скользит брусок по наклонной плоскости?

84. Камень брошен вертикально вверх. Изменяются ли перечисленные в правом столбце физические величины во время его движения вверх и если изменяются, то как? Установите соответствие между физическими величинами, перечисленными в правом столбце, и возможными видами их изменений, перечисленными во втором столбце. Влиянием сопротивления воздуха пренебречь.

ФИЗИЧЕСКИЕ ВЕЛИЧИНЫ ИХ ИЗМЕНЕНИЯ

А) скорость 1) не изменяется

Б) ускорение 2) увеличивается

В) кинетическая энергия 3) уменьшается

Г) потенциальная энергия

А	Б	В	Г
---	---	---	---

Часть С. (Решите задачи, полное решение запишите)

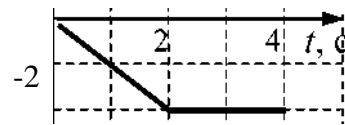
С1. Сколько льда, взятого при -10°C , можно растопить за 10 мин на электроплитке, работающей от сети напряжением 220В при токе 3А, если общий КПД установки 80%. Удельная теплоёмкость льда $2100\text{Дж/кг}\cdot\text{K}$. Удельная теплота плавления льда 340кДж/кг .

С2. Плоский воздушный конденсатор состоит из двух круглых пластинок радиусом 1см. Расстояние между ними 0,5 см. Напряжённость электрического поля между пластинами 4кВ/см . Найдите энергию поля конденсатора.

Демоверсия входной контрольной работы

A1. На графике показана зависимость скорости тела от времени. Каков путь, пройденный телом к моменту u , м/с времени $t = 4$ с?

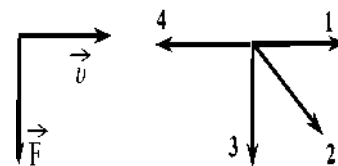
- 1) 7 м; 2) 6 м; 3) 5 м; 4) 4 м.



A2. К пружине школьного динамометра подвешен груз массой 0,1 кг. При этом пружина удлинилась на 2,5 см. Каким будет удлинение пружины при добавлении еще двух грузов по 0,1 кг?

- 1) 7,5 см; 2) 5 см; 3) 10 см; 4) 12,5.

A3. На левом рисунке представлены вектор скорости и вектор равнодействующей всех сил, действующих на тело в инерциальной системе отсчета. Какой из четырех векторов на правом рисунке указывает направление вектора ускорения этого тела в этой системе отсчета?



- 1) 1; 2) 2; 3) 3; 4) 4.

A4. Скорость тела при прямолинейном равноускоренном движении увеличилась на 5 м/с за 2 с и стала 10 м/с. Ускорение тела равно

- 1) 1 м/с^2 ; 2) $2,5 \text{ м/с}^2$; 3) 3 м/с^2 ; 4) $1,5 \text{ м/с}^2$.

A5. Тело движется по прямой. Начальный импульс тела равен 50 кг·м/с. Под действием постоянной силы величиной 10 Н за 2 с импульс тела уменьшился и стал равен

- 1) 10 кг·м/с; 2) 20 кг·м/с; 3) 30 кг·м/с; 4) 45 кг·м/с.

A6. Какую работу совершает подъемный кран, если он равномерно поднимает плиту массой 2 т на высоту 5 м?

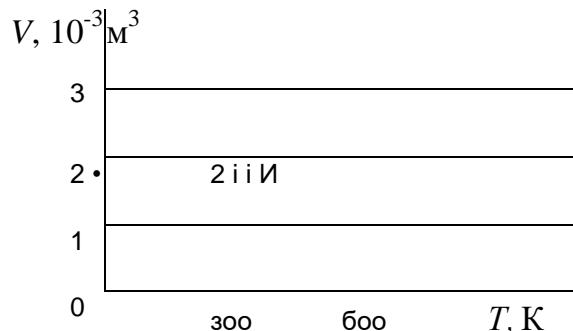
- 1) 10^4 Дж; 2) 10^3 Дж; 3) 100 Дж; 4) 100 кДж.

A7. Автомобиль массой 10^3 кг движется равномерно по мосту. Скорость автомобиля равна 10 м/с. Кинетическая энергия автомобиля равна

- 1) 10^5 Дж; 2) 10^4 Дж; 3) $5 \cdot 10^3$ Дж; 4) $5 \cdot 10^4$ Дж.

A8. На рисунке показан график изменения состояния постоянной массы газа. В этом процессе газ отдал количество теплоты, равное 3 кДж, в результате чего его внутренняя энергия уменьшилась на

- 1) 1,2 кДж; 2) 1,8 кДж;
3) 2,4 кДж; 4) 3 кДж.



A9. В тепловой машине температура нагревателя 600 К, температура холодильника на 200 К меньше, чем у нагревателя. Максимально возможный КПД машины равен

A10. Точечный отрицательный заряд q помещен между разноименно заряженными шариками (см. рисунок). Куда направлена равнодействующая

$Q \dots q < 0 \dots \Phi$

3) t; 4) I.

кулоновских сил, действующих на заряд q ?

между двумя точечными

B1. Как необходимо изменить расстояние электрическими зарядами, если заряд одного из них увеличился в 2 раза? Сила их кулоновского взаимодействия осталась неизменной.

- 1) увеличить в 2 раза 3) увеличить в 22 раз
- 2) уменьшить в 2 раза 4) уменьшить в 22 раз

B2. Найдите заряд, который накопит конденсатор емкостью 1 мкФ, если его зарядить до напряжения 200 В.

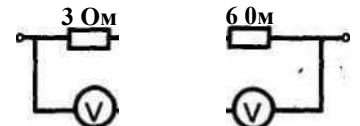
C1. Снаряд массой 50 кг, летящий параллельно рельсам со скоростью 400 м/с навстречу платформе с песком массой 20 т, движущейся со скоростью 2 м/с, застревает в платформе. С какой скоростью будет двигаться платформа?

C2. Баллон вместимостью 40 л содержит 1,98 кг углекислого газа. При какой температуре возникнет опасность взрыва, если баллон выдерживает давление до 3 МПа?

Контрольная работа №1 по теме «Магнитное поле. Электромагнитная индукция»

A1. На участке схемы включены два вольтметра. Показание первого вольтметра 2 В, показание второго

- 1) 2 В 2) 3 В 3) 6 В 4) 4 В



A2. К участку цепи из двух параллельно соединенных резисторов сопротивлением 10 и 20 Ом подходит ток 12 мА. Через каждый резистор течет ток соответственно

- 1) 10 мА; 2 мА 2) 2 мА; 10 мА
- 3) 4 мА; 8 мА 4) 8 мА; 4 мА

A3. Сторонними силами, вызывающими разделение зарядов в источнике тока, **не могут быть** силы

- 1) химического происхождения 2) магнитного происхождения

- 3) электростатического происхождения
- 4) термоэлектрического происхождения

A4. Найдите работу, совершаемую силами электрического поля при прохождении зарядом 6 мкКл разности потенциалов 220 В.

- 1) 1,32 мДж 2) 2,64 мДж 3) 0,66 мДж 4) 5,12 мДж

A5. Назовите носителей электрического тока в металлических проводниках.

- 1) электроны 2) ионы 3) электроны и «дырки» 4) ионы и электроны

81. Источник тока с ЭДС в 6 В и внутренним сопротивлением 1,4 Ом питает внешнюю цепь, состоящую из двух параллельно соединенных сопротивлений $R_1 = 2 \text{ Ом}$ и $R_2 = 8 \text{ Ом}$. Какова сила тока в проводнике R_1 ?

82. Через медную проволоку (удельное сопротивление $\rho = 1,7 \cdot 10^{-8} \text{ Ом} \cdot \text{м}$) длиной $L = 1 \text{ м}$ пропускают электрический ток 1 А. Падение напряжения на концах проволоки составляет 1В. Найти площадь поперечного сечения проволоки.

C1. Каково сопротивление провода из стали, если его длина 40 см, а площадь поперечного сечения 0,5 мм²?

C2. Три проводника сопротивлением 2 Ом, 3 Ом, и 6 Ом соединены параллельно и включены в цепь. Сила тока в первом проводнике 6 А. Какой ток протекает во втором и третьем проводниках и в общей цепи?

полугодовая контрольная работа

1 . Если в катушку вдвигают постоянный магнит и в ней возникает электрический ток, то это явление называется:

- А. Электростатической индукцией Б. Магнитной индукцией
- В. Индуктивность Г. Электромагнитной индукцией
- Д. Самоиндукцией

2 .Магнитный поток через контур площадью 10 см² равен 40 мВб. Угол между векторами индукции B и нормалью n равен 60 . Модуль индукции магнитного поля равен:

- А. $2 \cdot 10^{-5} \text{ Тл}$ Б. $8 \cdot 10^5 \text{ Тл}$ В. 80 Тл Г. 8 Тл Д. 20 Тл

3 .При уменьшении тока в катушке в 2 раза энергия ее магнитного поля:

- А. Уменьшится в 2 раза Б. Увеличится в 2 раза
- В. Уменьшится в 4 раза Г. Увеличится в 4 раза

4. ЭДС самоиндукции, возникающая в катушке индуктивностью 0,2 Гн при равномерном изменении тока от 5 А до 1А за 2 с, равна:

- А. 1,6 В Б. 0,4 В В. 10 В Г. 1 В. Д. 2,5 В

5. В катушке, имеющей 1000 витков, при равномерном исчезновении магнитного поля в течение 0,1 с индуцируется ЭДС, равная 10 В. Поток, пронизывающий каждый виток катушки, равен:

- А. 10 Вб Б. 1 Вб В. 0,1 Вб Г. 10^{-2} Вб Д. 10^{-3} Вб

6. . Если емкость уменьшится в 2 раза, а индуктивность возрастет в 8 раз, то частота колебаний в электрическом контуре:

- А. Увеличится в $\sqrt{2}$ раз Б. Уменьшится в $\sqrt{2}$ раз
- В. Увеличится в 2 раза Г. Уменьшится в 2 раза

Д. Уменьшится в 4 раза

7. Амплитуда гармонических колебаний напряжения равна 10 В. Действующее значение переменного напряжения равно:

А. 10 В Б. 5 В В. 9 В Г. 14 В Д. 7 В

8. Волну, в которой колебания происходят перпендикулярно перемещению этой волны, называют:

- а) продольной г) механической
б) поперечной д) звуковой
в) электромагнитной

9. Частота колебаний электромагнитной волны определяется выражением:

- а) - б) -
в) C г) $-T$ д) $C-$

TC

10. Генератор ВЧ работает на частоте 150 МГц. Длина волны электромагнитного излучения равна:

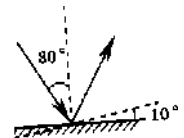
- а) 0,5 м б) 1 м в) 2 м
г) 4,5 м д) 5 м

11. Предмет расположен на двойном фокусном расстоянии от тонкой линзы. Его изображение будет

- а) перевернутым и увеличенным б) прямым и увеличенным
в) прямым и равным по размерам предмету
г) перевернутым и равным по размеру предмету

12. Угол падения света на горизонтально расположенное плоское зеркало равен 30° . Каким будет угол отражения света, если повернуть зеркало на 10° так, как показано на рисунке?

- а) 40° б) 30°
в) 20° г) 10°



«Электродинамика»

А1. Выберите формулу, описывающую закон Ома для полной цепи

- А. $I=V/R$ Б. $I=s/R+r$ В. $I=e/r$ Г. $I=q/t$

А2. Как направлен вектор магнитной индукции в точке а?

N ----- S

. а

- А. вверх Б. вниз В. вправо Г. влево

А3. Выберите формулу для расчета силы Ампера

- А. $F=E.q$ Б. $F=q.u.B.Sina$ В. $F=k.q1.q2/r^2$ Г. $F=I.B.L.Sina$

А4. Магнитное поле создается...

- А. неподвижными электрическими зарядами;
Б. движущимися электрическими зарядами;
В. телами, обладающими массой;
Г. движущимися частицами.

81. Участок проводника длиной 10 см находится в однородном магнитном поле с индукцией 50 мТл. Сила тока, протекающего по проводнику, 10 А. Какую работу

совершает сила Ампера при перемещении проводника на 8 см в направлении действия силы. Проводник расположен перпендикулярно линиям магнитного поля

82. Какова ЭДС индукции, возбуждаемая в проводнике, помещенном в магнитное поле с индукцией 200 мТл, если оно полностью исчезает за 0,05 с? Площадь, ограниченная контуром, равна 1 м^2 .

83. Определить индуктивность катушки, если при силе тока в 2 А, она имеет энергию 0,2 Дж.

84. Определить сопротивление проводника длиной 20 м, помещенного в магнитное поле, если скорость движения 10 м/с, индукция поля равна 0,01 Тл, сила тока 2 А.

С1. Катушка диаметром 20 см, имеющая 50 витков, находится в переменном магнитном поле. Найдите скорость изменения индукции поля в тот момент, когда ЭДС индукции, возбуждаемая в обмотке, равна 100 В.

С2. За время $t = 5$ мс в соленоиде, содержащем $N = 500$ витков, магнитный поток равномерно убывает от значения $\Phi_1 = 7$ мВб до значения $\Phi_2 = 3$ мВб, Найдите величину ЭДС индукции в соленоиде.

Демоверсия Контрольная работа (итоговая)

А1. Установить соответствие:

- | | |
|-----------------------|-------|
| А. Магнитный поток | 1. Тл |
| Б. Магнитная индукция | 2. Дж |
| В. Индуктивность | 3. Гн |
| | 4. Вб |

А2. Один раз металлическое кольцо падает на стоящий вертикально полосовой магнит так, что надевается на него, второй раз так, что пролетает мимо него. Плоскость кольца в обоих случаях горизонтальна.

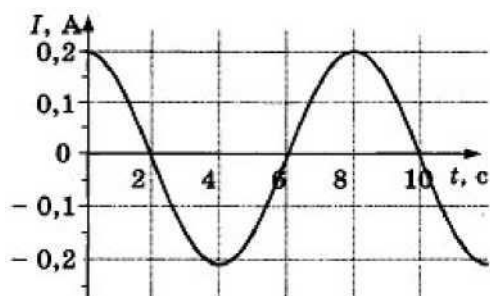
1 случай	1) Ток в кольце возникает в обоих случаях
2 случай	2) не возникает ни в одном из случаев
	3) возникает только в первом случае
	4) возникает только во втором случае

А3. Найдите ЭДС индукции в контуре, если за 0,01 с магнитный поток увеличился на 400 мВб.

6. Электромагнитная индукция - это:

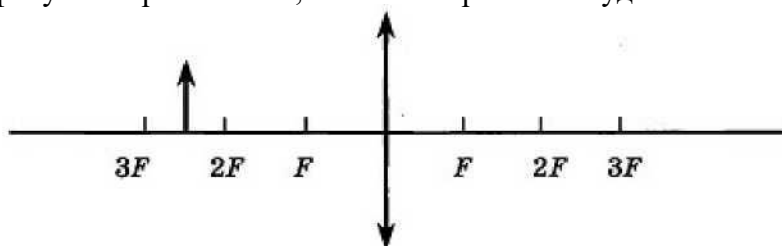
- 1) явление, характеризующее действие магнитного поля на движущийся заряд;
- 2) явление возникновения в замкнутом контуре электрического тока при изменении магнитного потока;
- 3) явление, характеризующее действие магнитного поля на проводник с током.

А4. На рисунке показан график зависимости силы тока в металлическом проводнике от времени. Определите частоту колебаний тока.



- 1) 8 Гц
 2) 0,125 Гц
 3) 6 Гц
 4) 4 Гц

A5. Если предмет находится от собирающей линзы на расстоянии больше двойного фокусного расстояния, то его изображение будет...



A6. Какое оптическое явление объясняет радужную окраску мыльных пузырей?

- 1) Дисперсия 2) Дифракция 3) Интерференция 4) Поляризация

A7. Какое из перечисленных ниже электромагнитных излучений имеет наибольшую частоту?

- А. Радиоволны.
 Б. Инфракрасное излучение.
 В. Видимое излучение.
 Г. Ультрафиолетовое излучение.
 Д. Рентгеновское излучение.

A8. Какое из приведённых ниже выражений определяет понятие дисперсия?

- А. Наложение когерентных волн.
 Б. Разложение света в спектр при преломлении.
 В. Преобразование естественного света в плоскополяризованный.
 Г. Огибание волной препятствий.
 Д. Частичное отражение света на разделе двух сред.

A9. Атом натрия ${}_{11}^{23}\text{Na}$ содержит

- А. 11 протонов, 23 нейтрона и 34 электрона
 Б. 23 протона, 11 нейтронов и 11 электронов
 В. 12 протонов, 11 нейтронов и 12 электронов Г. 11 протонов, 12 нейтронов и 11 электронов

A10. Определите, какие из реакций называют термоядерными А. Реакции деления легких ядер

- Б. Реакции деления тяжелых ядер
 В. Реакции синтеза между легкими ядрами
 Г. Реакции синтеза между тяжелыми ядрами

81. Математический маятник совершает свободные гармонические колебания. Какую величину можно определить, если известны длина l и период колебаний T маятника?

82. Написать недостающие обозначения в следующей ядерной реакции:



83. Расстояние между ближайшими гребнями волн 10 м. Какова частота ударов волн о корпус, если скорость волн 3 м/с ?

84. Луч света падает на плоское зеркало. Угол отражения равен 24° . Угол между падающим лучом и зеркалом....

С1. Длина активной части проводника 20 см. Угол между направлением тока и индукцией магнитного поля равен 90° . С какой силой магнитное поле с индукцией 50 мТл действует на проводник, если сила тока в нем 10 А?

С2. Определите индуктивность катушки, которую при силе тока 6 А пронизывает магнитный поток 120 мВб.